

Test Form No
3149329

SK2015

DM3149329

Time Allowed: 2 Hours
निर्धारित समय : 2 घंटेMaximum Marks : 200
अधिकतम अंक : 200

Read the following instructions carefully before you begin to answer the questions. This Booklet contains questions in English as well as in Hindi.

प्रश्नों के उत्तर देने से पहले नीचे लिखे अनुदेशों को ध्यान से पढ़ लें। इस पुस्तिका में प्रश्न अंग्रेजी तथा हिन्दी दोनों में दिये गये हैं।

Before you start to answer the questions you must check up this Booklet and ensure that it contains all the pages (1 -24) and see that no page is missing or repeated. If you find any defect in this Booklet, you must get it replaced immediately.

प्रश्नों के उत्तर देने से पहले आप इस पुस्तिका की जाँच करके देख लें कि इसमें पूरे पृष्ठ हैं (1-24) तथा कोई पृष्ठ कम या दुबारा तो नहीं आ गया है। यदि आप इस पुस्तिका में कोई त्रुटि पाएँ, तो तत्काल इसके बदले दूसरी पुस्तिका ले लें।

INSTRUCTIONS TO CANDIDATES

- This Booklet contains 200 questions in all comprising the following four parts :
Part A: General Intelligence and Reasoning (50 Questions)
Part B: General Awareness (50 Questions)
Part C: Quantitative Aptitude (50 Questions)
Part D: English Comprehension (50 Questions)
- In questions set bilingually in English and Hindi, in case of discrepancy, the English version will prevail.
- All questions are compulsory and carry equal marks.
- The paper carries negative marking. 0.25 marks will be deducted for each wrong answer.
- You will be supplied the Answer-Sheet separately by the Invigilator. You must complete and code the details of Name, Roll Number, Ticket Number and Test Form Number in the Answer-Sheet carefully. You must also put your signature and Left-Hand thumb impression on the Answer-Sheet at the prescribed place before you actually start answering the questions. These instructions must be fully complied with, failing which, your Answer-Sheet will not be evaluated.
- Answers must be shown by completely blackening the corresponding circles on Side-II of the Answer-Sheet against the relevant question number by Black/Blue Ball-point Pen only. Answers which are not shown by Black/Blue Ball-point Pen will not be awarded any mark.
- A machine will read the coded information in the OMR Answer-Sheet. In case the information is incomplete or different from the information given in the application form, such candidate will be awarded 'ZERO' mark.
- The Answer-Sheet must be handed over to the Invigilator before you leave the Examination Hall.
- Failure to comply with any of the above instructions will render a candidate liable to such action/penalty as may be deemed fit.
- The manner in which the different questions are to be answered has been explained at the back of this Booklet (Page No. 24), which you should read carefully before actually answering the questions.
- Answer the questions as quickly and as carefully as you can. Some questions may be difficult and others easy. Do not spend too much time on any question.
- No rough work is to be done on the Answer-Sheet. Blank spaces provided at various places in the question booklet may be used for rough work.
- "Mobile phones and wireless communication devices are completely banned in the examination halls/rooms. Candidates are advised not to keep mobile phones/any other wireless communication devices with them even in switched off mode, in their own interest. Failing to comply with this provision will be considered as using unfair means in the examination and action will be taken against them including cancellation of their candidature."

उम्मीदवारों के लिए अनुदेश

- इस पुस्तिका में कुल 200 प्रश्न हैं, जिनमें निम्नलिखित चार भाग हैं:
भाग क : सामान्य बुद्धिमत्ता एवं तर्कशक्ति (50 प्रश्न)
भाग ख : सामान्य ज्ञान (50 प्रश्न)
भाग ग : संख्यात्मक अभिरुचि (50 प्रश्न)
भाग घ : अंग्रेजी परिचय (50 प्रश्न)
- अंग्रेजी और हिन्दी भाषा में तैयार किए गए द्विभाषी प्रश्नों में कोई विसंगति होने की स्थिति में अंग्रेजी विवरण मान्य होगा।
- सभी प्रश्न अनिवार्य हैं तथा सबके बराबर अंक हैं।
- प्रश्न पत्र में नकारात्मक अंकन होगा / हर गलत उत्तर के लिए 0.25 अंक काटा जाएगा।
- निरीक्षक द्वारा आपको उत्तर-पत्रिका अलग से दी जाएगी। उत्तर पुस्तिका में नियमावली के अनुसार ध्यानपूर्वक अपना नाम, रोल नम्बर, टिकट नम्बर और टेस्ट फॉर्म संख्या अवश्य लिखें। प्रश्नों के उत्तर वास्तव में शुरू करने से पहले उत्तर पुस्तिका पर निर्धारित स्थान में आप अपने हस्ताक्षर एवं बाएँ हाथ के अंगूठे का निशान भी अवश्य लगाएँ। उपर्युक्त अनुदेशों का पूरी तरह अनुपालन किया जा अन्यथा आपकी उत्तर-पत्रिका को जाँचा नहीं जाएगा।
- उत्तर-पत्रिका में सभी उत्तर Side II में प्रश्न संख्या के सामने दिये गये सम्बन्धित गोलाकार खानों को केवल काले/नीले बॉल-पॉइंट पेन से पूरी तरह काला करके दिखाएँ। जो गोलाकार खाने काले/नीले बॉल-पॉइंट पेन से नहीं भरे जाएँगे, उनके लिए कोई अंक नहीं दिया जाएगा।
- ओ.एम.आर. उत्तर-पत्रिका में भरी गयी कूट सूचना को एक मशीन पढ़ेगी। यदि सूचना अपूर्ण है अथवा आवेदन प्रपत्र में दी गई सूचना से भिन्न है, तो ऐसे अभ्यर्थी को 'शून्य' अंक दिया जाएगा।
- परीक्षा हॉल छोड़ने से पहले परीक्षार्थी को उत्तर-पत्रिका निरीक्षक के हवाले कर देनी चाहिए।
- ऊपर के अनुदेशों में से किसी एक का भी पालन न करने पर उम्मीदवार पर विवेकानुसार कार्यवाही की जा सकती है या दण्ड दिया जा सकता है।
- विभिन्न प्रश्नों के उत्तर देने की विधि इस पुस्तिका के पीछे (पृष्ठ संख्या 24) में छपे हुए निर्देशों में दे दी गई है, इसे आप प्रश्नों के उत्तर देने से पहले ध्यानपूर्वक पढ़ लें।
- प्रश्नों के उत्तर जितनी जल्दी हो सके तथा ध्यानपूर्वक दें। कुछ प्रश्न आसान तथा कुछ कठिन हैं। किसी एक प्रश्न पर बहुत अधिक समय न लगाएँ।
- कोई रफ कार्य उत्तर-पत्रिका पर नहीं करना है। प्रश्न पुस्तिका में विभिन्न स्थानों पर उपलब्ध खाली जगहों पर रफ कार्य किया जा सकता है।
- "परीक्षा हॉल / कमरों में मोबाइल फोन तथा बेतार संचार साधन पूरी तरह निषिद्ध हैं। उम्मीदवारों को उनके अपने हित में सलाह दी जाती है कि मोबाइल फोन / किसी अन्य बेतार संचार साधन को स्विच ऑफ करके भी अपने पास न रखें। इस प्रावधान का अनुपालन न करने को परीक्षा में अनुचित उपायों का प्रयोग माना जाएगा और उनके विरुद्ध कार्यवाही की जाएगी, उनकी अभ्यर्थिता रद्द कर देने सहित।"

Part A: General Intelligence and Reasoning**भाग क: सामान्य बुद्धिमत्ता एवं तर्कशक्ति**

1) Introducing a man, a woman said "His mother is the only daughter of my father". How is the man related to the woman?

एक पुरुष का परिचय करते हुए एक महिला ने कहा, "इसकी माता मेरे पिता की इकलौती पुत्री है।" पुरुष महिला से किस प्रकार सम्बन्धित है?

- A) Son / पुत्र
B) Father / पिता
C) Brother / भाई
D) Uncle / चाचा

Directions / निर्देश: In Question nos. / प्रश्न संख्या 2 to 7, select the related word/letters/number from the given alternatives.

दिए गए विकल्पों में से सम्बन्धित शब्द/अक्षरों/संख्या को चुनिए

2) BLOCKED : YOLXPVW :: ? : OZFMMXS

- A) LABOURS
B) LAUNNCH
C) DEBATES
D) RESULTS

3) 12 : 72 :: 8 : ?

- A) 36
B) 32
C) 38
D) 40

4) FIG : EGHJFH :: BIN : ?

- A) ACJHMO
B) CAHJMOC
C) CAJHOM
D) ACHJMO

5) 6 : 42 :: 7 : ?

- A) 48
B) 40
C) 56
D) 52

6) Garbage : House :: Gangue : ?

कचरा : घर :: आधात्री : ?

- A) Factory / कारखाना
B) Drugs / औषध
C) Office / कार्यालय
D) Ore / आयस्क

7) DBU : EĒZ :: CJH : ?

- A) DMN
B) DNM
C) DNN
D) DMM

Directions / निर्देश: In Question nos. / प्रश्न संख्या 8 to 13, find the odd word/letters/number from the given alternatives.

दिए गए विकल्पों में से विधम शब्द/अक्षर/संख्या चुनिए

8)

- A) Lawyer / वकील
B) Legislator / विधायक
C) Mayor / मेयर
D) Governor / राज्यपाल

9)

- A) Acute / न्यून
B) Parallel / समांतर
C) Right / सम
D) Obtuse / अधिक

10)

- A) 50
B) 120
C) 37
D) 145

11)

- A) BS
B) EV
C) DX
D) IZ

12)

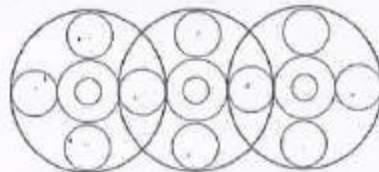
- A) OKHA
B) PERU
C) ERKU
D) ANDI

13)

- A) 200
B) 191
C) 808
D) 1331

14) Find out the number of circles in the figure.

इस आकृति में वृत्तों की संख्या ज्ञात कीजिए।



- A) 18
B) 20
C) 16
D) 19

Directions / निर्देश: In Question nos. / प्रश्न संख्या 15 to 17, which one set of letters/numbers when sequentially placed at the gaps in the given letter series shall complete it?

अक्षरों/संख्याओं का कौन-सा समूह खाली स्थानों पर क्रमवार रखने से दी गयी अक्षर श्रृंखला को पूरा करेगा?

15) SH _ ELAS _ EELA _ HEELA SHEE _ A

- A) HHSS
B) EEHS
C) ELHA
D) EHSL

16) 12_41_ 4123_ 234

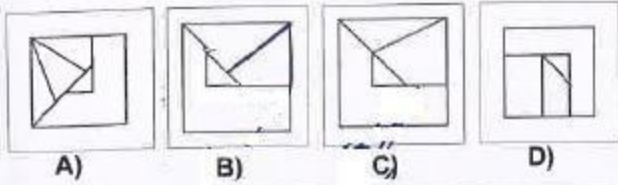
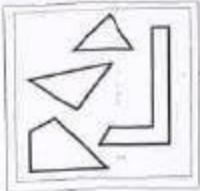
- A) 3212
B) 2134
C) 3241
D) 1432

17) _ _ aba _ _ ba _ ab

- A) abbbb
B) baabb
C) bbaba
D) abbab

18) From the given answer figures, select the one in which the question figure is hidden/embedded.

दी गयी उत्तर आकृतियों में से उस उत्तर आकृति को चुनिए जिसमें प्रश्न आकृति निहित है।



19) A word is represented by only one set of numbers as given in any one of the alternatives. The sets of numbers given in the alternatives are represented by two classes of alphabets as in two matrices given below. The columns and rows of Matrix I are numbered from 0 to 4 and that of Matrix II are numbered from 5 to 9. A letter from these matrices can be represented first by its row and next by its column, e.g. 'A' can be represented by 01, 14 etc. and 'M' can be represented by 56, 68 etc. Similarly, you have to identify the set for the word 'EAGLE'.

एक शब्द केवल एक संख्या-समूह द्वारा दर्शाया गया है, जैसा की विकल्पों में से किसी एक में दिया गया है। विकल्पों में दिए गए संख्या-समूह अक्षरों के दो वर्गों द्वारा दर्शाए गए हैं, जैसा कि नीचे दिए गए दो आव्यूहों में हैं। आव्यूह I के स्तम्भ और पंक्ति की संख्या 0 से 4 में दी गई है और आव्यूह II की 5 से 9, इन आव्यूहों से एक अक्षर को पहले उस की पंक्ति और बाद में स्तम्भ संख्या द्वारा दर्शाया जा सकता है। उदाहरण के लिए 'A' को 01, 14 आदि द्वारा दर्शाया जा सकता है तथा 'M' को 56, 68 आदि द्वारा दर्शाया जा सकता है। इसी तरह से आपको प्रश्न में दिए शब्द 'EAGLE' के लिए समूह को पहचानना है।

MATRIX - I

| | | | | | |
|---|---|---|---|---|---|
| | 0 | 1 | 2 | 3 | 4 |
| 0 | P | A | G | R | Z |
| 1 | G | R | Z | P | A |
| 2 | Z | P | A | G | R |
| 3 | A | G | R | Z | P |
| 4 | R | Z | P | A | G |

MATRIX - II

| | | | | | |
|---|---|---|---|---|---|
| | 5 | 6 | 7 | 8 | 9 |
| 5 | E | M | L | N | O |
| 6 | L | E | O | M | N |
| 7 | O | N | E | L | M |
| 8 | N | O | M | E | L |
| 9 | M | L | N | O | E |

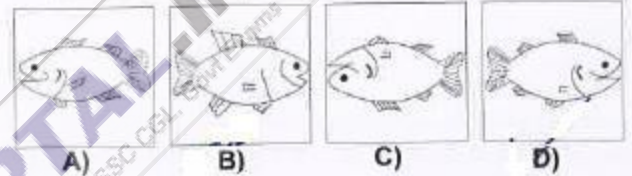
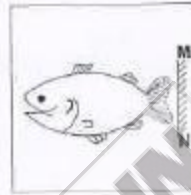
- A) 88, 22, 31, 89, 76
B) 66, 43, 44, 79, 88
C) 99, 01, 44, 96, 77
D) 55, 14, 11, 78, 66

20) In a certain code, FRACTION is written as FNAITCOR. How is QUANTITATIVE written in that code?

किसी कोड में FRACTION को 'FNAITCOR' के रूप में लिखा जाता है तो उसी कोड में QUANTITATIVE को कैसे लिखा जायेगा?

- A) QTNVAIAITETU
B) QIATAETUTNVI
C) QTEATUIAVITN
D) QEAITATITNVU

21) If a mirror is placed on the line MN, then which of the answer figures is the right image of the given figure? यदि एक दर्पण को MN रेखा पर रखा जाये तो दी गयी उत्तर आकृतियों में से कौन-सी आकृति प्रश्न आकृति की सही प्रतिबिम्ब होगी?



22) Find the number that is common for all of the clue's given below:

- नीचे दिए गए सभी संकेतों के लिए सामान्य संख्या बताइए।
- a) Virgo / कन्या
 - b) Volleyball / वॉली बाल
 - c) A highest scoring shot of a particular sport / विशेष खेल का सर्वाधिक अंक प्राप्त करने वाला शॉट।
 - d) Extra sensory perceptions / इन्द्रियेतर अनुभूति।

- A) 8
B) 4
C) 2
D) 6

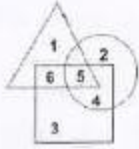
23) **Directions:** Study the diagram given below and answer question.

निर्देश: डायग्राम का अध्ययन कीजिये और प्रश्न का उत्तर दीजिये

The Qualified and experienced doctors working in villages are represented by:-

गांवों में कार्यरत अर्हित एवं अनुभवी डाक्टरों का प्रतिनिधित्व

कितना है?



- अर्हित डॉक्टर
QUALIFIED DOCTORS
- अनुभवी डॉक्टर
EXPERIENCE DOCTORS
- गांवों में कार्यरत डॉक्टर
DOCTORS WORKING IN VILLAGE

- A) 4
B) 5
C) 2
D) 6

24) In a certain coding system APPLE stands for ETTPI. What is the code for 'DELHI'?

किसी कोड व्यवस्था में APPLE का कोड ETTPI है 'DELHI' का कोड क्या होगा?

- A) CQMND
B) ZAHDE
C) HIPLM
D) CQPLM

Directions / निर्देश: In Question nos. / प्रश्न संख्या 25 to 29, select the missing number from the given responses.

दिए गए विकल्पों में से लुप्त अंक ज्ञात कीजिए

25)



- A) 12
B) 7
C) -12
D) 9

26) I 40 32 72 12
II 30 24 54 9
III 54 ? 90 15

- A) 49
B) 36
C) 46
D) 48

27)



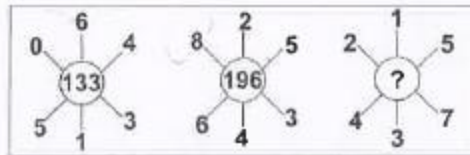
- A) 16
B) 12
C) 90
D) 48

28)



- A) 1332
B) 1321
C) 1231
D) 1331

29)



- A) 535
B) 451
C) 702
D) 154

30) Name a single letter, which can be deleted from the body of the following words to form entirely new words?

पूरी तरह से नए शब्द बनाने के लिए निम्नलिखित शब्दों में से

कौन सा एक अक्षर हटाया जा सकता है?

HOST POST COST LOST STOP

- A) T
B) P
C) S
D) O

Directions / निर्देश: In Question nos. / प्रश्न संख्या 31 to 32, one or two statements is given followed by two conclusions/assumptions, I and II. You have to consider the statement to be true, even if it seems to be at variance from commonly known facts. You are to decide which of the given conclusions/assumptions can definitely be drawn from the given statement.

एक या दो वक्तव्य दिया गया है, जिसके आगे दो

निष्कर्ष/मान्यताये, I और II. निकाले गए हैं आपको विचार करना

है की वक्तव्य सत्य है चाहे वह सामान्यतः ज्ञात तथ्यों से

भिन्न प्रतीत होता हो आपको निर्णय करना है की दिए गए

वक्तव्य में से कौन-सा निश्चित रूप से सही निष्कर्ष/मान्यता

निकला जा सकता है

31) **Statement:** No rod is pod. No pod is flexible:

वक्तव्य: कोई छड़ फली नहीं है। कोई फली लचीली नहीं है।

Inferences / मान्यता:

I - No rod is flexible. / कोई छड़ लचीली नहीं है।

II - Some pods are flexible / कुछ फलियाँ लचीली हैं।

- A) Both of them follows. दोनों मान्यता निकलती हैं।
 B) Only inference I follows. केवल मान्यता I निकलती है।
 C) Only inference II follows. केवल मान्यता II निकलती है।
 D) Neither of them follows. दोनों में से कोई मान्यता नहीं निकलती है।

32) **Statement / वक्तव्य:**

A good book even if costly is sold out in no time.

एक अच्छी पुस्तक महंगी होने पर भी जल्दी बिक जाती है।

Assumptions / मान्यता:

I: Some books are better than others / कुछ पुस्तकें अन्यो से बेहतर होती हैं।

II. All good books are costly / सभी अच्छी पुस्तकें महंगी होती हैं।

- A) Only I follows. केवल मान्यता I निकलती है।
 B) Both I and II follows. मान्यता I और II दोनों निकलती हैं।
 C) Neither I nor II follows. न मान्यता I और न ही II निकलती है।
 D) Only II follows. केवल मान्यता II निकलती है।

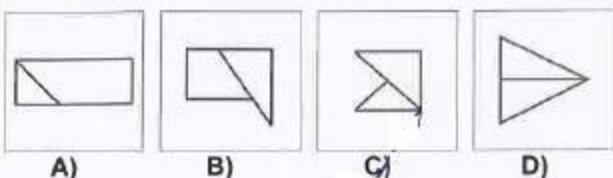
33) If CUSTOM is written as UCTSMO then how PARENT will be written in the same code?

यदि CUSTOM को UCTSMO लिखा जाता है तो PARENT को कैसे लिखा जाएगा?

- A) TNERAP
 B) RAPTNE
 C) ERAPTN
 D) APERTN

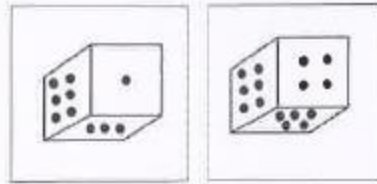
34) In the question one part of the problem figure is subtracted. Select the option that shows the correct shape by the subtraction.

इस प्रश्न में प्रश्न आकृति का एक भाग अलग किया गया है। ऐसा विकल्प चुनिए जो अलग करने के बाद सही रूप दर्शाता हो?



35) Two position of dice are shown below. When three is at the top what number will be at the bottom.

नीचे एक पासे की दो स्थितियाँ दर्शाई गयी हैं। यदि ऊपर तीन हो तो नीचे कौन-सी संख्या होगी?



- A) 5
 B) 1
 C) 4
 D) 2

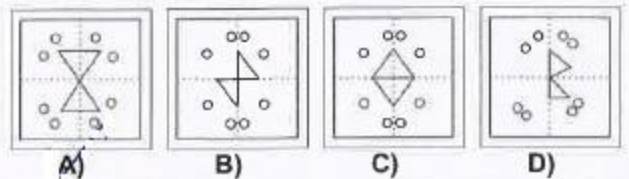
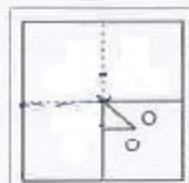
36) If 'air' is called 'green', green is called 'blue', 'blue' is called 'sky', 'sky' is called 'yellow', 'yellow' is called 'water' and water is called 'Pink' then what is the color of clear sky?

यदि 'वायु' को 'हरा' कहा जाए, 'हरे' को 'नीला' कहा जाए, 'नीले' को 'आकाश' कहा जाए, 'आकाश' को 'पीला' कहा जाए, 'पीले' को 'पानी' कहा जाए और पानी को 'गुलाबी' कहा जाए तो साफ़ आकाश का रंग क्या होगा।

- A) Yellow / पीला
 B) Water / पानी
 C) Sky / आकाश
 D) Blue / नीला

37) A piece of paper is folded and cut as shown below in the question figures. From the given answer figures, indicate how it will appear when opened.

नीचे प्रश्न आकृतियों में दिखाए अनुसार कागज को मोड़ कर काटने तथा खोलने के बाद वह किस उत्तर आकृति जैसा दिखाई देगा?



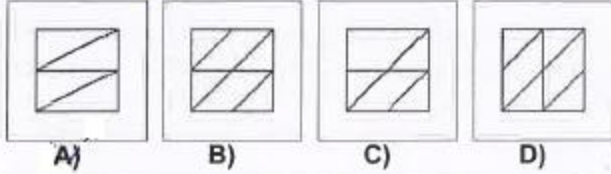
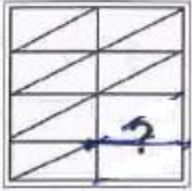
38) If the words are organised in reverse order of what they appear in dictionary, which word will come in the third place. यदि शब्दों की वे जिस क्रम से शब्दकोष में आते हैं उससे उल्टे क्रम में व्यवस्थित किया जाए तो तीसरे स्थान पर कौन सा शब्द आएगा?

- A) Oculist
 B) Odium
 C) Odious
 D) Ordeum

Directions / निर्देश: In Question nos. / प्रश्न संख्या 39 to 40, which answer figure will complete the pattern in the question figure?

कौन सी उत्तर आकृति प्रश्न आकृति के प्रतिरूप को पूरा करेगी?

39)



40)

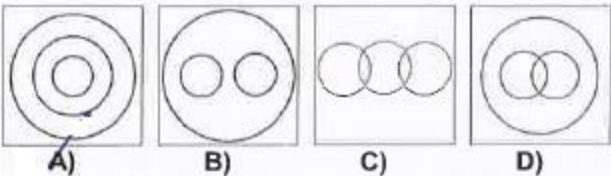


Directions / निर्देश: In Question nos. / प्रश्न संख्या 41 to 42, identify the diagram that best represents the relationship among classes given below:

ऐसा आरेख जात कीजिये जो निम्नलिखित श्रेणियों के बीच सर्वाधिक संबंध को दर्शाता है।

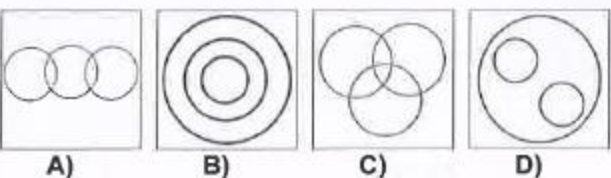
41) Vegetables, Potatoes, Eatables

सब्जियां, आलू, खाद्य पदार्थ



42) Christians, Catholics, Pope

ईसाई, कैथोलिक, पोप



43) Veena and Veeru both start from a point towards North. Veena turns to left after walking 10 Km. Veeru turns to right after walking the same distance. Veena waits for some time and then walks another 5 Km. Whereas Veeru walks only 3 Km. They both then return towards south and walk 15 Km. forward. How far is Veena from Veeru?

वीना और वीरू दोनों एक स्थान से उत्तर दिशा में चलना शुरू करते हैं। वीना 10 किमी. चलने के बाद बाएं मुड़ जाती है। वीरू भी इतना ही चलने के बाद दाएँ मुड़ जाता है। वीना कुछ समय के लिए रुकती है और फिर 5 किमी. और चलती है। जबकि वीरू केवल 3 किमी. चलता है। फिर वे दोनों दक्षिण दिशा में लौटते हैं और 15 किमी. चलते हैं। वीना वीरू से कितनी दूर है?

- A) 12Km. / किमी. B) 10Km. / किमी.
C) 8 Km. / किमी. D) 15Km. / किमी.

44) find the missing number?

लुप्त संख्या जात कीजिए।

2, 5, 10, 17, 26, ?

- A) 36 B) 49
C) 37 D) 47

45) To identify the correct response from the given premises stated according to following symbols.

निम्नलिखित प्रतीकों के अनुसार दिए गए कथनों से सही उत्तर जात कीजिये :

- 'A' stands for not less than (\geq)
'A' का अर्थ 'से कम नहीं' है (\geq)
'B' stands for not equal to (\neq)
'B' का अर्थ 'के बराबर नहीं' है (\neq)
'C' stands for not greater than (\leq)
'C' का अर्थ 'से बड़ा नहीं' है (\leq)
'D' stands for greater than ($>$)
'D' का अर्थ 'से बड़ा' है ($>$)
'E' stands for less than ($<$)
'E' का अर्थ है 'से कम' है ($<$)
'F' stands for equal to ($=$)
'F' का अर्थ है 'के बराबर' है ($=$)

Premises / कथन: 4YF3x and / और 3xF6Z

- A) 2 YF 3 Z B) 4 YB 5 Z
C) 2 YD 3 Z D) 2 YE 3 Z

46) Ravi is walking in the East direction. After covering a distance of one kilometer, he turns 45° left and then 90° right. In which direction is he now?

रवि पूर्व दिशा में चल रहा है। एक किमी. की दूरी तय करने के बाद वह 45° बाएं मुड़ता है और फिर 90° दायें मुड़ता है। इस समय वह किस दिशा में है?

- A) North / उत्तर B) West / पश्चिम
C) North West / उत्तर पश्चिम D) North East / उत्तर पूर्व

47) Which of the following jumbled words is **not** an animal?

निम्नलिखित अव्यवस्थित शब्दों में से कौन सा शब्द जानवर **नहीं** है।

- A) LATHPEEN B) TICRECK
C) FEFEOC D) TAR

48) Arrange the following words as per order in the dictionary.

निम्नलिखित शब्दों को शब्द कोश में दिए गए क्रम के अनुसार लिखें।

(1)Hale (2)Hake (3)Halt (4)Hamlet (5)Ham

- A) 1, 3, 5, 2, 4 B) 2, 1, 3, 5, 4
C) 2, 1, 4, 3, 5 D) 2, 3, 5, 4, 1

49) If '+' means 'x', '-' means '÷', 'x' means '-' and '÷' means '+', then what will be the value of $16 \div 64 - 8 \times 4 + 2$?

यदि '+' का मान 'x' है, '-' का मान '÷' है, 'x' का मान '-' है और '÷' का मान '+' है तब $16 \div 64 - 8 \times 4 + 2$ का मान क्या होगा?

- A) 12 B) 24
C) 16 D) 18

50) From the given alternative words, select the word which cannot be formed using the letters of the given word.

निम्नलिखित विकल्पों में से वह शब्द चुनिए जो दिए गए शब्द के अक्षरों का प्रयोग करे बनाया नहीं जा सकता है।
'BOOKBINDING'

- A) DONDING B) DOING
C) DIGGING D) DINING