

MPPSC Prelims Exam 2013

General Studies

Paper - II

(Exam held on 27th July 2014)

निर्देश : नीचे दिये प्रश्न संख्या 1 से 4 तक, प्रत्येक प्रश्न में पहले एक कथन है और उसके नीचे दो पूर्वधारणाएँ क्र. I और क्र. II दी गयी हैं। आपको दिये गए कथन और उसके नीचे दी गयी पूर्वधारणाओं पर विचार करने के बाद तय करना है कि कौन सी पूर्वधारणा कथन में अन्तर्निहित है ?

- (A) केवल पूर्वधारणा I अन्तर्निहित है।
(B) केवल पूर्वधारणा II अन्तर्निहित है।
(C) न तो पूर्वधारणा I और न ही पूर्वधारणा II अन्तर्निहित है।
(D) दोनों ही पूर्वधारणाएँ I और II अन्तर्निहित हैं।

1. कथन : बहुत सी संस्थाओं ने परीक्षा की ऑन-लाइन पद्धति अपना ली है।

पूर्वधारणा I : हो सकता है देश के सभी भागों के उम्मीदवार कम्प्यूटर में पारंगत हों।

पूर्वधारणा II : परीक्षा की ऑन-लाइन पद्धति से अधिक योग्य लोगों की भर्ती करने में मदद मिलती है।

2. कथन : नगर प्राधिकरण ने लोगों को सूचित किया है कि मानसून के मौसम के दौरान पानी से होने वाली बीमारियों से बचने के लिये पीने के पानी को पीने से पहले उबाल लेना चाहिये।

पूर्वधारणा I : लोग अभी भी पीने के पानी को उबाले बिना पियेंगे।

पूर्वधारणा II : लोग नगर प्राधिकरणों द्वारा ऐसी सुझावों को आमतौर पर नजरअंदाज कर देते हैं।

3. कथन : एक राष्ट्रीय बैंक ने राष्ट्रीय दैनिक में एक विज्ञापन जारी किया कि पात्र उम्मीदवार चार्टर्ड अकाउंटेंट के 120 पदों के लिये आवेदन करें।

पूर्वधारणा I : पात्र चार्टर्ड अकाउंटेंट इस आवेदन का प्रत्युत्तर देंगे।

पूर्वधारणा II : राष्ट्रीय बैंक में नियुक्ति के लिये पात्र चार्टर्ड अकाउंटेंट पर्याप्त संख्या में होंगे।

4/2013

4. कथन : अपने वाहन से कार्यस्थल पर जाने वाले लोगों को आकर्षित करने के लिये नगर परिवहन निगम ने विभिन्न मार्गों पर वातानुकूलित बसें शुरू की हैं। इससे सड़कों पर कम भीड़ होगी।

पूर्वधारणा I : अधिकांश लोग अब भी अपने वाहन से कार्यस्थल पर जाना पसंद करेंगे।

पूर्वधारणा II : अपने कार्यस्थल पर जाने के लिये बहुत से लोग अब इन बसों का विकल्प चुनेंगे।

निर्देश : नीचे दिये प्रश्न 5 से 9 तक प्रत्येक प्रश्न में एक कथन के बाद दो तर्क I और II दिये गये हैं। आपको यह तय करना है कि कौन सा तर्क 'ठोस' और कौन सा तर्क 'निर्बल' है, अपने निर्णय के आधार पर निम्नलिखित विकल्पों में से एक विकल्प चुनिये :

- (A) तर्क I ठोस है।
(B) तर्क II ठोस है।
(C) तर्क I और II दोनों ठोस हैं।
(D) न तो तर्क I और न ही तर्क II ठोस है।

5. कथन : क्या म्यूचुअल फंड को सरकार के नियंत्रण में लाना चाहिये ?

तर्क I : हाँ, यह एकमात्र उपाय है जिससे निवेशकर्ता की अभिरुचि को बनाये रखा जा सकता है।

तर्क II : नहीं, सरकार इसे सम्भालने में समर्थ नहीं होगी।

6. कथन : क्या सरकार को सभी धरना एवं प्रदर्शन पर रोक लगा देनी चाहिये ?

तर्क I : नहीं, सरकार को नागरिकों के मौलिक अधिकारों का हनन नहीं करना चाहिये।

तर्क II : हाँ, यही एकमात्र तरीका है जिससे अधिकाधिक उत्पादन संभव हो पायेगा।

7. कथन : क्या भारत में स्कूल की शिक्षा को कानूनी रूप से अनिवार्य कर देना चाहिये ?

तर्क I : हाँ, पूरे राष्ट्र को शिक्षित बनाने का यह एकमात्र तरीका है।

तर्क II : नहीं, पूरे राष्ट्र को शिक्षित करने के लिये हमारे पास आधारभूत संसाधन नहीं हैं।

SET-C

Directions : From questions number 1 to 4, there is a statement followed by two assumptions numbered I and II. After considering the statement and given assumptions you have to decide which assumption is implicit in the statement ?

- (A) If only assumption I is implicit.
- (B) If only assumption II is implicit.
- (C) If neither assumption I nor assumption II is implicit.
- (D) If both assumptions I and II are implicit.

1. **Statement :** Many institutions have adopted on-line method of conducting their examinations.

Assumption I : It is possible that candidates from all parts of the country are adapt at computers.

Assumption II : The on-line method of examination helps to recruit more qualified people.

2. **Statement :** The Municipal Corporation has informed the people that to avoid water borne diseases they should boil water before drinking.

Assumption I : People will still drink water without boiling.

Assumption II : People generally overlook such advisories issued by the Municipal Corporation.

3. **Statement :** A nationalized bank gave an advertisement in a national daily that eligible candidates may apply for 120 posts of Chartered Accountant.

Assumption I : Eligible Chartered Accountants will reply to this advertisement.

Assumption II : There will be enough eligible Chartered Accountants who want to work in the nationalized bank.

4. **Statement :** In order to attract people the city transport corporation has introduced air conditioned buses on various routes for those who go to their work place in own vehicles. This will help in reducing traffic on roads.

Assumption I : Most of the people will prefer to go to their work places in their own vehicles.

Assumption II : Many people will now choose the options of these buses to travel to their work place.

Directions : In Question Nos. 5 to 9 below there is one statement followed by two arguments I and II. You have to decide which argument is 'strong' and which one is 'weak', based on your decision you have to choose one of the following options :

- (A) Argument I is strong.
- (B) Argument II is strong.
- (C) Both arguments I and II are strong.
- (D) Neither argument I nor II is strong.

5. **Statement :** Should mutual funds be brought under government control ?

Argument I : Yes, this is the only way in which the interest of the investor can be ensured.

Argument II : No, the government will not be able to handle it.

6. **Statement :** Should the government ban all types of protests and sit-ins. ?

Argument I : No, the government should not infringe on the Fundamental Rights of the citizens.

Argument II : Yes, this is the only way in which maximum productivity can be ensured.

7. **Statement :** Should school education be made mandatory in India through legislation ?

Argument I : Yes, this is the only way by which the whole country can be made educated.

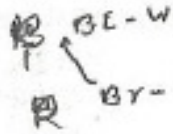
Argument II : No, we do not have the basic resources to make the whole country educated.

8. कथन : क्या भारत को अत्याधुनिक परमाणु शस्त्रों को अर्जित करना चाहिये ?
 तर्क I : हाँ, भारत के शत्रु स्वयं के हथियारों में निरंतर सुधार ला रहे हैं ।
 तर्क II : नहीं, यह हमारी विश्व शांति बनाये रखने की नीति के विपरीत होगा ।

9. कथन : क्या प्रयोगशाला-परीक्षण के बहाने जानवरों को मारना चाहिये ?
 तर्क I : हाँ, यह प्रचुर मात्रा में उपलब्ध हैं ।
 तर्क II : नहीं, हम सदैव अहिंसा के समर्थक रहे हैं ।

एक घनाकृति (क्यूब) के 6 फलक भिन्न-भिन्न रंग के हैं । लाल फलक के विपरीत काला फलक है । नीले फलक का समीपवर्ती फलक सफेद है । भूरा फलक नीले का समीपवर्ती है । लाल फलक नीचे की ओर है । भूरे फलक के ठीक विपरीत कौन सा फलक होगा ?

- (A) लाल
 (B) काला
 (C) सफेद
 (D) नीला

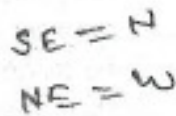


11. चार बच्चों को एक कतार में कितनी तरह से खड़ा किया जा सकता है कि दो बच्चे M और N हमेशा साथ हों ?

- (A) 6
 (B) 12
 (C) 18
 (D) 24

12. एक मीटिंग के दौरान एक गाँव का नक्शा कुछ इस तरह रखा गया कि दक्षिण-पूर्व, उत्तर बन गया, उत्तर-पूर्व, पश्चिम बन गया इत्यादि । ऐसे में दक्षिण क्या बन जायेगा ?

- (A) उत्तर
 (B) उत्तर-पूर्व
 (C) उत्तर-पश्चिम
 (D) पश्चिम



13. आप एक मॉल में घुसने वाले थे कि आपको बंदूक चलने की आवाज आयी और उसी समय तीन लोग मॉल से बाहर आते दिखे । वे एक सफेद कार में सवार होकर भाग निकलते हैं । आप उस कार का नम्बर नोट कर लेते हैं । मॉल में प्रवेश के बाद आपको पता चलता है कि एक व्यक्ति को गोली मारकर लुटा गया है । व्यक्ति घायल तो है परन्तु हालत गंभीर नहीं है । ऐसी अवस्था में आप :

- (A) अपना कार्य यथावत करते रहेंगे क्योंकि अन्य लोग पीड़ित की सहायता कर रहे हैं और सी.सी.टी.वी. पर घटना रिकॉर्ड हो गयी है ।

- (B) सहायता की पेशकश कर पीड़ित को अस्पताल ले जायेंगे ।

- (C) घटना की जानकारी देकर पुलिस को बुलाएँगे, उन्हें उस कार का नम्बर देंगे और एम्बुलेंस भी बुलायेंगे ।

- (D) मॉल प्रबंधन/सुरक्षाकर्मी को सूचित कर उनसे तत्काल कार्यवाही की माँग करेंगे ।

14. एक घड़ी के घंटे एवं मिनट वाले काँटे 1.00 बजे अपराह्न से 10.00 बजे अपराह्न की समयावधि में अपनी गति के दौरान कितनी बार एक दूसरे के लम्बवत स्थिति में होते हैं ?

- (A) 9
 (B) 16
 (C) 18
 (D) 20



15. एक व्यक्ति को सही निशाना लगाने पर एक रुपया मिलता है और निशाना चूकने पर उससे एक रुपया ले लिया जाता है । यदि 100 बार निशाने लगाने के बाद खेल के अन्त में उसके पास कुल 30 रुपये हैं तो उसका निशाना कुल कितनी बार चूका ?

- (A) 25
 (B) 35
 (C) 40
 (D) 45

SET-C

8. **Statement :** Should India acquire the latest Nuclear weapons ?

Argument I : Yes, India's enemies are continuously improving their armaments.

Argument II : No, this will be counter to our policy of global peace.

9. **Statement :** Should animals be killed for the sake of laboratory testing ?

Argument I : Yes, they are available in plenty.

Argument II : No, we have always supported ahimsa.

10. A cuboid has six sides of different colours. The red side is opposite to black. The blue side is adjacent to white. The brown side is adjacent to blue. The red side is face down. Which one of following would be opposite to brown ?

- (A) Red
- (B) Black
- (C) White
- (D) Blue

11. In how many ways can four children be made to stand in a line such that two of them M and N are always together ?

- (A) 6
- (B) 12
- (C) 18
- (D) 24

12. In a meeting, the map of a village was placed in such a manner that South-East becomes North, North-East becomes West, and so on. What will South become ?

- (A) North
- (B) North-East
- (C) North-West
- (D) West

13. You are about to enter a mall when you hear gun shots, at the same time you observe three persons rushing out of the mall. They board a white car and quickly drive off. You note the car's vehicle number.

On entering the mall you find that a person has been robbed and shot at. The person is wounded but not critically injured. In such a situation you would

- (A) Carry on with your work as you see other attending to the victim and also that the incident has been captured on CCTV.
- (B) Offer help and take the victim to a hospital.
- (C) Call the police informing them of the incident and giving them the vehicle number you had noted and also call for an ambulance.
- (D) Inform the management/security personnel of the incident and ask them to take immediate action.

14. How many times an hour hand and a minute hand of a clock are at right angles during their motion from 1.00 p.m. to 10. p.m. ?

- (A) 9
- (B) 16
- (C) 18
- (D) 20

15. A person gets Re 1.00 for hitting the target and Re 1.00 is taken from him if he misses the target. After having 100 rounds, at the end of the game he has ₹ 30.00. How many times did he miss the target ?

- (A) 25
- (B) 35
- (C) 40
- (D) 45

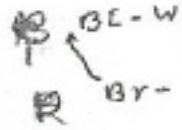
SET-C

P/A/II/2013

8. कथन : क्या भारत को अत्याधुनिक परमाणु शस्त्रों को अर्जित करना चाहिये ?
 तर्क I : हाँ, भारत के शत्रु स्वयं के हथियारों में निरंतर सुधार ला रहे हैं ।
 तर्क II : नहीं, यह हमारी विश्व शांति बनाये रखने की नीति के विपरीत होगा ।

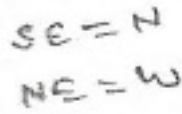
9. कथन : क्या प्रयोगशाला-परीक्षण के बहाने जानवरों को मारना चाहिये ?
 तर्क I : हाँ, वे प्रचुर मात्रा में उपलब्ध हैं ।
 तर्क II : नहीं, हम सदैव अहिंसा के समर्थक रहे हैं ।

10. एक घनाकृति (क्यूब) के 6 फलक भिन्न-भिन्न रंग के हैं । लाल फलक के विपरीत काला फलक है । नीले फलक का समीपवर्ती फलक सफेद है । भूरा फलक नीले का समीपवर्ती है । लाल फलक नीचे की ओर है । भूरे फलक के ठीक विपरीत कौन सा फलक होगा ?
 (A) लाल
 (B) काला
 (C) सफेद
 (D) नीला



11. चार बच्चों को एक कतार में कितनी तरह से खड़ा किया जा सकता है कि दो बच्चे M और N हमेशा साथ हों ?
 (A) 6
 (B) 12
 (C) 18
 (D) 24

12. एक मॉडिंग के दौरान एक गाँव का नक्शा कुछ इस तरह रखा गया कि दक्षिण-पूर्व, उत्तर बन गया, उत्तर-पूर्व, पश्चिम बन गया इत्यादि । ऐसे में दक्षिण क्या बन जायेगा ?
 (A) उत्तर
 (B) उत्तर-पूर्व
 (C) उत्तर-पश्चिम
 (D) पश्चिम



13. आप एक मॉल में घुसने वाले थे कि आपको बंदूक चलने की आवाज आयी और उसी समय तीन लोग मॉल से बाहर आते दिखे । वे एक सफेद कार में सवार होकर भाग निकलते हैं । आप उस कार का नम्बर नोट कर लेते हैं । मॉल में प्रवेश के बाद आपको पता चलता है कि एक व्यक्ति को गोली मारकर लूटा गया है । व्यक्ति घायल तो है परन्तु हालत गंभीर नहीं है । ऐसी अवस्था में आप :

- (A) अपना कार्य यथावत करते रहेंगे क्योंकि अन्य लोग पीड़ित की सहायता कर रहे हैं और सी.सी.टी.वी. पर घटना रिकॉर्ड हो गयी है ।
 (B) सहायता की पेशकश कर पीड़ित को अस्पताल ले जायेंगे ।
 (C) घटना की जानकारी देकर पुलिस को बुलाएँगे, उन्हें उस कार का नम्बर देंगे और एम्बुलेंस भी बुलायेंगे ।
 (D) मॉल प्रबंधन/सुरक्षाकर्मी को सूचित कर उनसे तत्काल कार्यवाही की माँग करेंगे ।

14. एक घड़ी के घंटे एवं मिनट वाले काँटे 1.00 बजे अपराह्न से 10.00 बजे अपराह्न की समयावधि में अपनी गति के दौरान कितनी बार एक दूसरे के लम्बवत स्थिति में होते हैं ?

- (A) 9
 (B) 16
 (C) 18
 (D) 20



15. एक व्यक्ति को सही निशाना लगाने पर एक रुपया मिलता है और निशाना चूकने पर उससे एक रुपया ले लिया जाता है । यदि 100 बार निशाने लगाने के बाद खेल के अन्त में उसके पास कुल 30 रुपये हैं तो उसका निशाना कुल कितनी बार चूका ?

- (A) 25
 (B) 35
 (C) 40
 (D) 45

8. **Statement :** Should India acquire the latest Nuclear weapons ?

Argument I : Yes, India's enemies are continuously improving their armaments.

Argument II : No, this will be counter to our policy of global peace.

9. **Statement :** Should animals be killed for the sake of laboratory testing ?

Argument I : Yes, they are available in plenty.

Argument II : No, we have always supported ahimsa.

10. A cuboid has six sides of different colours. The red side is opposite to black. The blue side is adjacent to white. The brown side is adjacent to blue. The red side is face down. Which one of following would be opposite to brown ?

- (A) Red
- (B) Black
- (C) White
- (D) Blue

11. In how many ways can four children be made to stand in a line such that two of them M and N are always together ?

- (A) 6
- (B) 12
- (C) 18
- (D) 24

12. In a meeting, the map of a village was placed in such a manner that South-East becomes North, North-East becomes West, and so on. What will South become ?

- (A) North
- (B) North-East
- (C) North-West
- (D) West

13. You are about to enter a mall when you hear gun shots, at the same time you observe three persons rushing out of the mall. They board a white car and quickly drive off. You note the car's vehicle number.

On entering the mall you find that a person has been robbed and shot at. The person is wounded but not critically injured. In such a situation you would

- (A) Carry on with your work as you see other attending to the victim and also that the incident has been captured on CCTV.
- (B) Offer help and take the victim to a hospital.
- (C) Call the police informing them of the incident and giving them the vehicle number you had noted and also call for an ambulance.
- (D) Inform the management/security personnel of the incident and ask them to take immediate action.

14. How many times an hour hand and a minute hand of a clock are at right angles during their motion from 1.00 p.m. to 10. p.m. ?

- (A) 9
- (B) 16
- (C) 18
- (D) 20

15. A person gets Re 1.00 for hitting the target and Re 1.00 is taken from him if he misses the target. After having 100 rounds, at the end of the game he has ₹ 30.00. How many times did he miss the target ?

- (A) 25
- (B) 35
- (C) 40
- (D) 45

16. आप ग्रामीण जिले में एक अधिकारी हैं। आप के ऊपर जिले के ग्रामीण विकास की जिम्मेदारी है। आपके संज्ञान में यह आता है कि आपके ऑफिस और क्षेत्र के कर्मचारी पूरी दक्षता से कार्य निष्पादन नहीं कर रहे हैं। ऐसी अवस्था में आप क्या करेंगे ?
- (A) ऑफिस एवं क्षेत्रीय कर्मचारियों को डाँटेंगे।
- (B) उनको अधिक श्रम करने के लिये अभिप्रेरित एवं प्रोत्साहित करेंगे।
- (C) कुछ करते हुए जो चल रहा है चलने देंगे।
- (D) उन्हें भौतिक प्रोत्साहन देंगे।
17. कार्यालय में दो कर्मचारियों के बीच बहस की बात आपको मालूम होती है। एक तीसरे कर्मचारी से यह जानकारी मिलती है कि इनके बीच वैचारिक मतभेद का प्रभाव कार्यालय के कार्य पर पड़ रहा है। आप ऐसे में क्या करेंगे ?
- (A) मुद्दे की जानकारी के लिये दोनों कर्मचारियों से बात करेंगे।
- (B) आप सभी कर्मचारियों से बात कर समस्या को तह तक जायेंगे।
- (C) दोनों कर्मचारियों को चेतावनी देंगे कि भविष्य में सख्त कार्यवाही करेंगे।
- (D) दोनों कर्मचारियों को ऐसे वार्तालाप से दूर रहने का कहेंगे ताकि कार्यालय का वातावरण दूषित ना हो।
18. आप किसी सरकारी विभाग में अधिकारी हैं। आपकी जानकारी में आता है कि लम्बी दूरी के टेलीफोन बिल का बिल आया है जो एक कर्मचारी विशेष द्वारा किया गया है। आप क्या करेंगे ?
- (A) कर्मचारी को बिल भुगतान का आदेश देंगे।
- (B) कर्मचारी को आगे से ऐसा नहीं करने की चेतावनी देंगे।
- (C) कार्यालय के फोन को लम्बी दूरी की कॉल से प्रतिबन्धित करवा देंगे।
- (D) कर्मचारी से ऐसी कॉलों का कारण पूछेंगे।

19. आप एक ऑटोमोबाइल कम्पनी में कार्यरत हैं। आपने एक दक्ष तकनीक खोजी एवं विकसित की है, परन्तु बैठक में आपके बॉस ने घोषणा की कि यह तकनीक उसके बेटे ने विकसित की है। आप ऐसे में क्या करेंगे ?
- (A) नौकरी छोड़कर चले जायेंगे।
- (B) चिल्लाकर सभी को बतायेंगे कि तकनीक आपने खोजी है।
- (C) अपने सहकर्मियों को बुलाकर स्पष्ट होंगे कि यह तकनीक आपने बनाई है।
- (D) अपने बॉस से उनके झूठ का कारण पूछेंगे और भविष्य के लिये सतर्क रहकर योजना बनायेंगे।
20. आप एक सरकारी अधिकारी हैं। आपको अपने अधीनस्थ के विरुद्ध एक शिकायत प्राप्त होती है। आप क्या करेंगे ?
- (A) उसे निलम्बित करेंगे।
- (B) उसके विरुद्ध शिकायत के संदर्भ में एक जाँच बैठायेंगे।
- (C) उसे दण्डित करेंगे।
- (D) शिकायत को नजरअंदाज करेंगे।
21. आपके बॉस ने आपसे कुछ काम करने को कहा इसके लिए आपको शहर से बाहर जाना है। उसी समय आपका बच्चा अचानक बीमार पड़ जाता है। ऐसी अवस्था में आप क्या करेंगे ?
- (A) छुट्टी लेकर घर जायेंगे।
- (B) अपने बॉस को बता देंगे कि अभी आपके लिये घर छोड़ना संभव नहीं है।
- (C) शहर से बाहर जाने को तैयार हो जायेंगे।
- (D) अपने बॉस को स्थिति से अवगत कराने के बाद कार्यक्रम बनायेंगे।

SET-C

16. You are an officer in a Rural District. You have the responsibility for Rural Development. You observe that your office and field staff is not working efficiently. What are you going to do ?
- (A) Scold your office and field staff.
 (B) You will motivate them and encourage them to work hard.
 (C) You will let things drift.
 (D) Give them material incentives.
17. You get to know about an argument between two workers of your office. From a third worker you get to know that differences of opinion between these two workers is affecting the work of your office. What are you going to do ?
- (A) Talk to both workers to know about the issue.
 (B) You will try to go to the bottom of the problem by talking to all the workers.
 (C) Warn both the workers about strict action in future.
 (D) Ask the two workers to refrain from such arguments so that office atmosphere is not vitiated.
18. You are an officer in a Government Department. It comes to your notice that there is an office bill for long distance call particularly by one worker. What will you do ?
- (A) Order the worker to pay the bill.
 (B) Warn the worker not to do this again.
 (C) Get the office phone to restrict long distance calls.
 (D) Ask the worker, the reason for such calls.
19. You work in an automobile company. You have discovered and created an efficient technique. During the meeting your boss says the technique was discovered by his son. What are you going to do ?
- (A) You will leave your job.
 (B) Shout and tell everybody that you discovered the technique.
 (C) Call your co-workers and tell them that you have discovered the technique.
 (D) You will ask your boss the reason for his lie and make plans for such contingency in future.
20. You are a Government Officer. You find that there is a complaint against your subordinate. What will you do ?
- (A) Suspend him.
 (B) Institute an enquiry in the context of the complaint.
 (C) Punish him.
 (D) Ignore the complaint.
21. Your boss has asked you for a job for which you have to go out of the city. At the same time your child is suddenly fall ill. What are you going to do in such a situation ?
- (A) Go home taking leave.
 (B) Tell your boss it is not possible to leave your house at this time.
 (C) Be ready to go out of the city.
 (D) Apprise your boss of the situation and then finalize your programme.

SET-C

PANJAB

22. आप एक मतदान केंद्र के कार्यकारी अधिकारी हैं। मतदान के दौरान एक माओवादी दल आकर मतदाताओं को डराता धमकाता है और हवा में गोलियाँ चलाता है। आप ऐसे में क्या करेंगे ?

- (A) मतदान तुरंत बंद करवा देंगे।
- (B) वहाँ तैनात पुलिस दल को सूचित कर सभी महत्वपूर्ण दस्तावेज उन्हें सुरक्षित करने को कहेंगे।
- (C) माओवादियों का बलपूर्वक विरोध करने के लिए पुलिस से कहेंगे।
- (D) माओवादियों को जो चाहिये देकर जीवन रक्षा करेंगे।

23. एक विद्यार्थी कॉलेज द्वारा निष्कासित किये जाने के बाद आत्मदाह की कोशिश करता है। भीड़ उसे आत्मदाह के लिये उकसा रही है। आप एक पुलिस अफसर के रूप में वहाँ सबसे पहले पहुँचते हैं। आप ऐसी अवस्था में क्या करेंगे ?

- (A) विद्यार्थी को अड़टने के पश्चात् उसे वहाँ से भगा देंगे।
- (B) विद्यार्थी को गिरफ्तार करने के बाद उसे एक मनोचिकित्सक की सेवाएँ दिलायेंगे।
- (C) विद्यार्थी के साथ महाविद्यालय के प्राचार्य के पास जायेंगे।
- (D) प्राचीन का आदेश देने से पूर्व और पुलिस बल के आने का इन्तजार करेंगे।

24. मापक स्केल की अधिकतम लम्बाई जो 3 मी., 5 मी. 10 सेमी. तथा 12 मी. 90 सेमी. कपड़ों का पूरा-पूरा एवं सटीक मापन कर सके, है :

- (A) 1 मी.
- (B) 3 मी.
- (C) 30 सेमी
- (D) उपरोक्त में से कोई नहीं

25. सरकार ने एक आदेश निकालकर सभी प्राइवेट अस्पतालों को गरीब मरीजों का इलाज मुफ्त करने को अनिवार्य बनाया है। सरकारी अधिकारी के रूप में आपके पास यह शिकायत आती है कि शहर के प्राइवेट अस्पतालों में आज भी पूर्व की भाँति गरीब मरीजों से पैसे वसूले जा रहे हैं। आप ऐसी अवस्था में क्या कार्यवाही करेंगे ?

- (A) आप ऐसे सभी अस्पतालों को बंद करवा देंगे।
- (B) इसमें लिप्त कुछ डॉक्टरों की गिरफ्तारी के आदेश देंगे।
- (C) ऐसे अस्पतालों के प्रबंधकों को एक बैठक बुलाकर उन्हें सरकारी आदेश का पालन करने की हिदायत देंगे।
- (D) इन अस्पतालों के डॉक्टरों के प्रैक्टिस लाइसेंस रद्द करने का आदेश देंगे।

26. किसी सप्ताह विशेष में सोमवार से बुधवार का औसत तापमान 27 °C था और मंगलवार से गुरुवार तक औसत तापमान 24 °C था। यदि गुरुवार का तापमान सोमवार के तापमान का 2/3 है, तो गुरुवार का तापमान था :

- (A) 9 °C
- (B) 20 °C
- (C) 18 °C
- (D) इनमें से कोई नहीं

22. You are the officer-in-charge of a polling station. During voting a group of Maoists come and try to disrupt proceedings by terrorizing the voters and firing in the air. What will you do ?

- (A) Immediately stop voting.
- (B) Inform police force stationed there and ask them to ensure safety of important documents.
- (C) Ask the police to resist the Maoists by force.
- (D) Give the Maoists whatever they want and try to save lives.

23. A college student after being expelled from college tries to commit self-immolation. The huge crowd is egging him on. You reach the spot as a police officer first. What are you going to do ?

- (A) After scolding the students and chasing him from there.
- (B) Arrest the student and provide him services of a psychiatrist.
- (C) Go to the principal of the college along with the student.
- (D) Wait for more police force to arrive before ordering a lathi charge.

24. The greatest possible length of a scale that can be used to measure exactly the following lengths of cloth; 3 m, 5 m 10 cm and 12 m 90 cm, is :

- (A) 1 m
- (B) 3 m
- (C) 30 cm
- (D) None of the above

25. The government has passed an order making it mandatory for private hospitals to treat poor patients free of cost. As a government officer you have received a complaint that the poor patients are being charged as previously by the private hospitals of the city. What are you going to do ?

- (A) You will order closure of all such hospitals.
- (B) Order to arrest of some doctors involved.
- (C) Call a meeting of managers of such hospitals and admonish them to comply with government orders.
- (D) Order the cancellation of practice licence of doctors of these hospitals.

26. In a particular week the mean temperature of Monday to Wednesday was 27°C and mean temperature of Tuesday to Thursday was 24°C . If the temperature of Thursday was $\frac{2}{3}$ of the temperature on Monday, then the temperature of Thursday was

- (A) 9°C
- (B) 20°C
- (C) 18°C
- (D) None of these

SET-C

P/A/M/2013

27. $\frac{\frac{2}{3} + \frac{5}{6} \text{ का } 0.75}{\frac{2}{3} + 0.75 \times \frac{5}{6}} - \frac{2}{3} \times 1.24$ का मान है :

- (A) $\frac{46}{75}$ (B) $\frac{13}{75}$
(C) $\frac{26}{75}$ (D) इनमें से कोई नहीं

28. एक व्यक्ति को दैनिक मजदूरी में 15% की वृद्धि की गई। उस व्यक्ति को अब ₹ 230 प्रतिदिन मिलने लगे। वृद्धि के पूर्व उसकी दैनिक मजदूरी कितनी थी ?

- (A) ₹ 202 (B) ₹ 210
(C) ₹ 212 (D) ₹ 200

29. एक बल्लेबाज सत्र के आखिरी टेस्ट मैच के पहले 750 रन बना चुका था। अपनी मैच की अन्तिम दो पारियों में वह मात्र 6 रन बनाता है, तो उसका औसत 2 रन कम हो जाता है। उसका सत्र का अन्तिम औसत है :

- (A) 30 रन
(B) 25 रन
(C) 28 रन
(D) उपरोक्त में से कोई नहीं

30. एक व्यक्ति अपनी कुल यात्रा का $\frac{1}{4}$ हिस्सा स्कूटर से, $\frac{3}{8}$ हिस्सा कार से और बाकी बचे 48 किमी. बस से तय करता है। उसके द्वारा तय की गई कुल दूरी है :

- (A) 128 किमी (B) 168 किमी
(C) 127 किमी (D) 128 किमी

31. निम्न में से कौन सी भिन्न $\frac{1}{3}$ से कम है ?

- (A) $\frac{22}{63}$ (B) $\frac{4}{11}$
(C) $\frac{15}{45}$ (D) $\frac{33}{98}$

32. 25 वस्तुओं का क्रय मूल्य 20 वस्तुओं के विक्रय मूल्य के बराबर है। लाभ प्रतिशत है

- (A) 20%
(B) 25%
(C) न हानि, न लाभ
(D) उपर्युक्त में से कोई नहीं

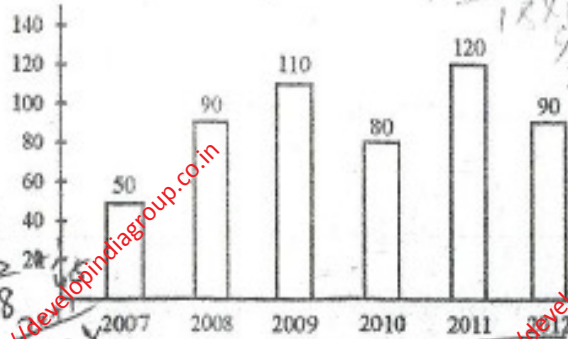
33. एक थैले में एक रुपये, पचास पैसे, पच्चीस पैसे और दस पैसे के सिक्के 1 : 3 : 5 : 7 अनुपात में भरे हैं। यदि थैले में कुल रकम ₹ 22.25 है, तो थैले में पचास पैसे के सिक्कों की संख्या है :

- (A) 15 (B) 25
(C) 35 (D) 5

34. यदि 4 आदमी मिलकर 40 एकड़ फसल 30 दिनों में काट सकते हैं तो 18 आदमी, 12 दिनों में कितने एकड़ फसल काट लेंगे ?

- (A) 72 एकड़ (B) 120 एकड़
(C) 160 एकड़ (D) 20 एकड़

35. नीचे दिये गये दण्ड चित्र में एक कम्पनी द्वारा प्रति वर्ष साइकिल उत्पादन के आँकड़े दर्शाये गये हैं। वर्ष 2011 और 2012 के मध्य कितने प्रतिशत उत्पादन में गिरावट आयी, चित्र का अध्ययन कर बताइये।



- (A) 20% (B) 30%
(C) 15% (D) 25%

SET-C

27. The value of $\frac{\frac{2}{3} + 0.75 \text{ of } \frac{5}{6}}{\frac{2}{3} + 0.75 \times \frac{5}{6}} - \frac{2}{3} \times 1.24$, is
- (A) $\frac{46}{75}$ (B) $\frac{13}{75}$
 (C) $\frac{26}{75}$ (D) None of these

28. The daily wage of a person is increased by 15%. The person now gets ₹ 230 per day. What was his daily wage before the increase ?
- (A) ₹ 202 (B) ₹ 210
 (C) ₹ 212 (D) ₹ 200

29. A batsman had scored a total of 750 runs before the last test match of the season. In his last two innings of the match he scores only 6 runs, and his average drops by 2 runs. His final average of the season, is
- (A) 30 runs
 (B) 25 runs
 (C) 28 runs
 (D) None of the above

30. A man travels $\frac{1}{4}$ th part by scooter, $\frac{3}{8}$ th by car and the rest 48 kms by bus of the total travel. The total distance covered by him is
- (A) 148 kms (B) 168 kms
 (C) 127 kms (D) 128 kms

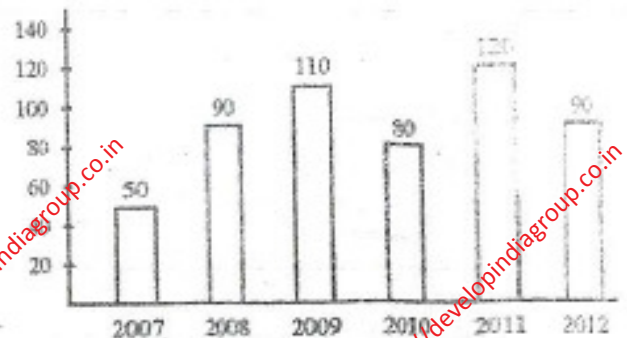
31. Which one of the following fractions is less than $\frac{1}{3}$?
- (A) $\frac{22}{63}$ (B) $\frac{4}{11}$
 (C) $\frac{15}{46}$ (D) $\frac{33}{98}$

32. The cost price of 25 articles is equal to the selling price of 20 articles. The gain percentage, is
- (A) 20%
 (B) 25%
 (C) No loss, no gain
 (D) None of the above

33. A bag contains one rupees, fifty paise, twenty five paise and ten paise coins in proportion 1 : 3 : 5 : 7. If the total amount in the bag is ₹ 22.25, the number of fifty paise coins, is
- (A) 15 (B) 25
 (C) 35 (D) 5

34. If 4 men can reap 40 acres in 30 days, then how many acres 18 men will reap in 12 days ?
- (A) 72 acres (B) 120 acres
 (C) 160 acres (D) 20 acres

35. In the bar diagram given below is data pertaining to the production of cycles in each year by a company. After studying the diagram find out the percentage drop in cycle production between the years 2011 and 2012.



- (A) 20% (B) 30%
 (C) 15% (D) 25%

SET-C

P/A/II/2013

निर्देश : (प्रश्न संख्या 36 से 38) : नीचे दी गयी तालिका में भारत की छः प्रमुख उर्वरक उत्पादन कम्पनियों द्वारा वर्ष 2012 में अप्रैल से लेकर अगस्त तक महीनेवार उत्पादन दिया गया है। इस तालिका का ध्यान से अध्ययन करने के उपरांत नीचे दिये गये प्रश्नों (36-38) के उत्तर दीजिये।

उत्पादन लाख टनों में

महीना	कम्पनी					
	I	II	III	IV	V	VI
अप्रैल	310	180	169	137	140	120
मई	318	179	177	162	140	122
जून	320	160	188	173	135	130
जुलाई	326	167	187	180	146	130
अगस्त	327	150	185	178	145	128

36. कम्पनी नम्बर II की सकल उत्पादन में हिस्सेदारी किस माह में कुल उर्वरक उत्पादन का लगभग 15% थी ?

- (A) किसी माह में नहीं
(B) मई
(C) जून
(D) अप्रैल

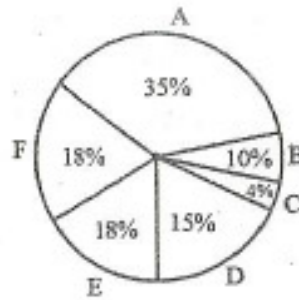
37. किस कम्पनी में उत्पादन में माह दर माह लगातार वृद्धि हुई ?

- (A) I
(B) II
(C) III
(D) IV

38. एक माह में कितनी कम्पनियाँ ऐसी थीं जिनकी उर्वरक उत्पादन में हिस्सेदारी कम्पनी के कुल उत्पादन का 25% से अधिक थी ?

- (A) दो
(B) तीन
(C) कोई नहीं
(D) एकदो अथवा दो

निर्देश : नीचे दिये गये पाई चित्र का अध्ययन कीजिये और प्रश्न संख्या 39, 40 और 41 का उत्तर दीजिये :



- A → छपाई की लागत
B → कागज की लागत
C → विविध
D → रॉयल्टी
E → विज्ञापन पर लागत
F → गिल्ड चढ़ाने की लागत

39. यदि किताब के विक्रय से प्राप्त कुल राशि जिसमें कि उत्पादन लागत पर 30% लाभांश निहित है ₹ 97,500 है, तो कुल रॉयल्टी कितनी होगी ?

- (A) ₹ 6,500
(B) ₹ 14,625
(C) ₹ 11,250
(D) इनमें से कोई नहीं

$$\begin{aligned} & 97,500 \times \frac{3}{4} \\ & \underline{73125} \\ & 24375 \end{aligned}$$

40. यदि विविध शुल्क (खर्च) ₹ 6,000 है तो विज्ञापन शुल्क (खर्च) क्या होगा ?

- (A) ₹ 9,000
(B) ₹ 27,000
(C) ₹ 1,333.33
(D) ₹ 15,000

$$\begin{aligned} & 6000 \times \frac{3}{2} \\ & \underline{18000} \\ & 12000 \end{aligned}$$

41. यदि छपाई की लागत ₹ 17,500 है, तो रॉयल्टी कितनी होगी ?

- (A) ₹ 7,500
(B) ₹ 15,000
(C) ₹ 3,500
(D) ₹ 750

$$\begin{aligned} & 17500 \times \frac{1}{2} \\ & \underline{8750} \\ & 8750 \end{aligned}$$

SET-C

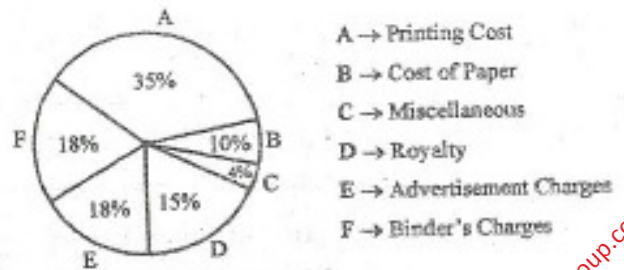
Directions (Q. Nos. 36-38) : Production of fertilizers by six major companies of India during the year 2012 for the months of April to August are given in the following table. Study the table carefully and answer the questions (36-38) given thereafter :

Production in Lac tonnes

Month	Company					
	I	II	III	IV	V	VI
April	310	180	169	137	140	120
May	308	179	177	162	140	122
June	320	160	188	173	135	130
July	326	167	187	180	146	130
August	327	150	185	178	145	128

36. In which month does company No. II have a contribution of approximately 15% in the total fertilizer production ?
 (A) None
 (B) May
 (C) June
 (D) April
37. In which company, there is a continuous increase in production over the months ?
 (A) I
 (B) II
 (C) III
 (D) IV
38. In the month of June, how many companies have a share of more than 25% of the total production of fertilizers of that company ?
 (A) Two
 (B) Three
 (C) None
 (D) Data inadequate

Directions : Study the pie chart given below and answer the Question Nos. 39, 40 & 41.



- A → Printing Cost
 B → Cost of Paper
 C → Miscellaneous
 D → Royalty
 E → Advertisement Charges
 F → Binder's Charges

39. If the total sale from the book is ₹ 97,500 including 30% profit on production cost, then the royalty is
 (A) ₹ 6,500
 (B) ₹ 14,625
 (C) ₹ 11,250
 (D) None of these
40. If the miscellaneous charges are ₹ 6,000, the advertisement charges are
 (A) ₹ 9,000
 (B) ₹ 27,000
 (C) ₹ 1,333.33
 (D) ₹ 15,000
41. If the cost of printing is ₹ 17,500, then the royalty is
 (A) ₹ 7,500
 (B) ₹ 15,000
 (C) ₹ 3,500
 (D) ₹ 750

SET-C

7/11/2013

निर्देश : निम्नलिखित लेखांश को पढ़िये और उसके उपरान्त दिये गये प्रश्नों (प्रश्न 42-46) के उत्तर दीजिये । इन प्रश्नों के उत्तर केवल लेखांश पर आधारित होने चाहिये ।

अधिकारों का सही स्रोत कर्तव्य भावना होती है । यदि हम सभी अपने कर्तव्यों का निर्वहन करें तो अधिकारों को प्राप्त करना कठिन नहीं होगा । यदि हम कर्तव्यों का निर्वहन किये बिना अधिकारों के पीछे भागते हैं तो वे भी काफूर हो जाएंगे । हम जितना उनके पीछे भागेंगे वे उतना ही दूर उड़ जाएंगे ।

मेरे लिये राजनीतिक शक्ति अपने आप में लक्ष्य नहीं है बल्कि एक साधन है जो लोगों के जीवन के प्रत्येक आयाम को बेहतर बनाता है । राजनीतिक शक्ति का आशय उस क्षमता से है जो राष्ट्रीय प्रतिनिधियों द्वारा राष्ट्रीय जीवन का नियमन करती है । यदि राष्ट्रीय जीवन इतना श्रेष्ठ हो जाता है कि स्वनियमित रहे तो प्रतिनिधित्व की आवश्यकता समाप्त हो जाती है और इस स्थिति में एक प्रबुद्ध अराजकता की अवस्था निर्मित हो जाती है । ऐसी अवस्था में प्रत्येक व्यक्ति स्वयं का शासक होता है । वह अपने आपको इस तरह शासित करता है कि अपने पड़ोसी के लिये कभी भी अवरोध न बने । थोरो का कथन है : "वह सरकार सबसे अच्छी है जो सबसे कम शासन करती है ।"

42. उपर्युक्त गद्यांश के आधार पर कौन सा निष्कर्ष निकाला जा सकता है ?

- (A) राष्ट्रीय जीवन का नियमन राष्ट्रीय प्रतिनिधियों के द्वारा होता है ।
 (B) राष्ट्रीय जीवन को राजनीतिक शक्ति प्रदत्त होती है ।
 (C) शक्ति के कार्यान्वयन के लिये प्रतिनिधित्व अत्युत्कृष्ट तरीका नहीं है ।
 (D) उपर्युक्त में से कोई नहीं ।

43. उपर्युक्त गद्यांश के संदर्भ में कौन सा कथन सत्य है ?

- (A) प्रबुद्ध अराजकता अत्यन्त सामान्य है ।
 (B) आत्म-नियमन, प्रबुद्ध अराजकता की ओर ले जाता है ।
 (C) आत्म-नियमन का अर्थ आत्म-प्रतिनिधित्व होता है ।
 (D) जब कोई आत्म-नियमन नहीं होता तो राष्ट्रीय जीवन आदर्श हो जाता है ।

44. थोरो के कथन का अर्थ क्या है ?

- (A) वास्तविक शासन का राजनीति शासन के अभाव की ओर ले जाता है ।
 (B) वह शासन व्यवस्था सर्वश्रेष्ठ है जो कम से कम शासन करे ।
 (C) शासन के अभाव का अर्थ सर्वाधिक अच्छे शासन से होता है ।
 (D) उपर्युक्त में से कोई नहीं ।

45. उपर्युक्त गद्यांश से कौन सा निष्कर्ष निकाला जा सकता है ?

- (A) अधिकार कर्तव्यों का अनुसरण करते हैं ।
 (B) कर्तव्य जो अच्छी तरह नहीं निभाये गये का आशय होता है अच्छी तरह निभाये गये अधिकार ।
 (C) अच्छी तरह निभाये गये कर्तव्यों का आशय होता है अच्छी तरह निभाये गये अधिकार ।
 (D) उपर्युक्त में से कोई नहीं ।

46. उपर्युक्त गद्यांश के संदर्भ में निम्नलिखित में कौन सा सही है ?

- (A) राजनीतिक शक्ति व्यक्तिगत जीवन के बारे में है ।
 (B) राजनीतिक शक्ति लोगों के सामान्य कल्याण के लिए है ।
 (C) सामाजिक स्थितियाँ, राजनीतिक शक्ति का निर्धारण करती हैं ।
 (D) राजनीतिक शक्ति का संबंध साध्य से होता है ।

Directions (Q. Nos. 42-46) : Read the following excerpt and answer questions asked at the end. The answer to the questions should be based on the excerpt.

The true source of rights is duty. If we all discharge our duties, rights will not be far to seek. If leaving duties unperformed we run after rights, they will escape us like a 'will-o'-the-wisp'. The more we pursue them, the farther they fly.

To me political power is not an end but one of the means of enabling people to better their condition in every department of life. Political power means capacity to regulate national life through national representatives. If national life becomes so perfect as to become self-regulated, no representation becomes necessary, there is then a state of enlightened anarchy. In such a state everyone is his own ruler. He rules himself in such a manner that he is never a hindrance to his neighbour. Thoreau states: "that government is best which governs the least".

42. Which of the following inference can be drawn from the above excerpt ?
- (A) National life is regulated through national representatives.
- (B) Political power is given to national life.
- (C) Representation is not the best way to exercise power.
- (D) None of the above.

43. Which of the following statements is true in the context of the above excerpt ?
- (A) Enlightened anarchy is very common.
- (B) Self-regulation leads to enlightened anarchy.
- (C) Self-regulation means self-representation.
- (D) National life becomes perfect when there is no self-regulation.
44. What is the meaning of Thoreau's statement ?
- (A) The path of true governance leads to no governance.
- (B) Less governance leads to better governance.
- (C) No governance means best governance.
- (D) None of the above.
45. Which of the following inferences can be drawn from the above excerpt ?
- (A) Duties follow rights.
- (B) Duties unperformed means rights well performed.
- (C) Duties well performed means rights well performed.
- (D) None of the above.
46. With reference to the above excerpt, which of the following statements is correct ?
- (A) Political power is about personal life.
- (B) Political power is about the general good of the people.
- (C) Social conditions determine political power.
- (D) Political power is related to ends.

निर्देश (प्रश्न संख्या 47-51) : यदि कोई सार्वभौमिक एवं सर्वव्यापी सत्य को आत्मा से साक्षात्कार करना चाहता है तो उसे सृष्टि के लघुतम सृजन से भी आत्मवत् प्रेम करना होगा और जो व्यक्ति ऐसा करना चाहता है वह जीवन के किसी क्षेत्र से पृथक रह कर ऐसा नहीं कर सकता । इसी कारण सत्य के प्रति भेदे समर्पण ने मुझे राजनीति में खींचा और मैं यह दावे के साथ परन्तु पूर्ण विनम्रता से कह सकता हूँ कि जो लोग यह कहते हैं कि धर्म का राजनीति से कोई लेना देना नहीं है वे धर्म का अर्थ नहीं समझते ।

प्रत्येक जीवित प्राणी से एकात्मकता का भाव बिना आत्मशुद्धि के असंभव है और बिना आत्मशुद्धि के अहिंसा के नियम का पालन एक दिवा स्वप्न रह जाएगा; ईश्वर की अनुभूति उसे ही हो सकती है जो हृदय से शुद्ध हो । इसलिये आत्मशुद्धि का अर्थ जीवन के प्रत्येक क्षेत्र में शुद्धता है । आत्मशुद्धि संक्रामक है ।

47. गद्यांश के आधार पर कौन सा निष्कर्ष निकाला जा सकता है ?

(i) ईश्वर एवं सत्य की अनुभूति के लिये हमें छोटे से छोटे जीवित प्राणी में अपना बिम्ब दिखाना चाहिये ।

(ii) ईश्वर का वास पवित्र हृदय वालों में होता है ।

(A) मात्र निष्कर्ष (i) सही ।

(B) मात्र निष्कर्ष (ii) सही ।

(C) दोनों (i) एवं (ii) निष्कर्ष सही ।

(D) निष्कर्ष (i) एवं (ii) दोनों सही नहीं ।

48. उपर्युक्त गद्यांश से निम्नलिखित में से कौन सा निष्कर्ष नहीं निकाला जा सकता ?

(A) हृदय की विशुद्धता ईश्वर तक ले जाती है ।

(B) आत्मशुद्धि एक संक्रामक प्रक्रिया है ।

(C) अहिंसा के साथ आत्मशुद्धि नहीं हो सकती ।

(D) आत्मशुद्धि कठोर तपस्या के पश्चात् आती है ।

49. गद्यांश के अनुसार निम्नलिखित में से कौन सत्य नहीं है ?

(A) सत्य की अनुभूति के लिये हमें प्रत्येक प्राणी से प्रेम करना चाहिये ।

(B) प्रेम सभी मनुष्यों की मूल अभिलाषा होती है ।

(C) सत्य की खोज करने वाला व्यक्ति उसे राजनीति में भी देखता है ।

(D) उपरोक्त में से कोई नहीं ।

50. गद्यांश के अनुसार निम्न में से कौन सा सही है ?

(A) राजनीति एवं धर्म पृथक नहीं हैं ।

(B) राजनीति एक पवित्र व्यवसाय है ।

(C) राजनीति का संदर्भ शक्ति से है ।

(D) उपर्युक्त में से कोई नहीं ।

51. उपर्युक्त गद्यांश से कौन सा कथन निष्कर्षित निकाला जा सकता है ?

(A) सत्य एवं प्रेम असम्बद्ध हैं ।

(B) सत्य एवं प्रेम आत्मिक रूप से जुड़े हैं ।

(C) सत्य सार्वभौमिक आत्मा को खोज है ।

(D) मानव तुच्छ प्राणी होते हैं ।

Directions (Q. Nos. 47-51) : To see the universal and all-pervading spirit of truth face to face one must be able to love the meanest of creation as oneself. And a man who aspires after that cannot afford to keep out of any field of life. That is why my devotion to truth has drawn me into the field of politics; and I can say without the slightest hesitation, and yet in all humility, that those who say that religion has nothing to do with politics do not know what religion means.

Identification with everything that lives is impossible without self-purification; without self-purification the observance of the law of ahimsa must remain an empty dream; God can never be realized by one who is not pure of heart. Self-purification therefore must mean purification in all walks of life. Self-purification is infectious.

47. Which of the following conclusions can be drawn from what is stated in the passage ?
- To realize God and Truth one must be able to see oneself even in the tiniest of living beings.
 - God resides in the pure hearted.
- Only conclusion (i) can be drawn.
 - Only conclusion (ii) can be drawn.
 - Both conclusions (i) and (ii) can be drawn.
 - Neither conclusion (i) nor (ii) can be drawn.

SET-C

48. Which of the following cannot be concluded from the passage ?

- Purity of heart leads to God.
- Self-purification is an infectious process.
- With ahimsa there is no self-purification.
- Self-purification comes after severe penance.

49. Which of the following is not true according to the passage ?

- In order to realize Truth one must love all creatures.
- Love is the basic aspiration of all humans.
- A seeker of Truth seeks it in politics also.
- None of the above.

50. According to the excerpt which of the following is correct ?

- Politics and religion are not separate.
- Politics is a noble profession.
- Politics is about power.
- None of the above.

51. Which statement can be concluded from the above excerpt ?

- Truth and Love are disjointed.
- Truth and Love are deeply connected.
- Truth is the search for universal spirit.
- Humans are mean creatures.

PAPER 2013

निर्देश (प्र.सं. 52-55) : निम्न में से प्रत्येक शब्द के लिये एक संदर्भ उपस्थित है। नीचे दिये गये विकल्पों में से वह विकल्प चुनिये जो तत्सम्बंधित संदर्भ में शब्द के अर्थ के सर्वाधिक निकट हो।

52. नारीवाद : नारीवाद एक आंदोलन है किसी विशेष प्रकार के सामाजिक परिवर्तन के लिये।

- (A) नारी अधिकारों के विरुद्ध सिद्धान्त।
 (B) एक सिद्धान्त जो स्त्री एवं पुरुष के बीच के अंतर को स्पष्ट करता है।
 (C) एक सिद्धान्त जो महिलाओं के बीच से गरीबी उन्मूलन पर बल देता है।

(D) एक सिद्धान्त जो नारी के अधिकारों का पक्षधर है।

53. कहानी-किस्सा : उसने अपनी कमजोरियों को छुपाने के लिये किस्सा-कहानी गढ़ ली।

- (A) कहानी
 (B) सूत का धागा
 (C) मजबूत कपड़ा
 (D) उपर्युक्त में से कोई नहीं

54. दृढ़ांग : क्रीड़ा-प्रतियोगी का शरीर दृढ़ांग है।

- (A) सशक्त
 (B) स्वस्थ
 (C) दृढ़संकल्पित
 (D) मजबूत

55. सुहारा : सामाजिक विकास के क्रम में सर्वहारा वर्ग का अधिनायकत्व एक पड़ाव है।

- (A) पूँजीवादी
 (B) कामगार वर्ग
 (C) मजदूर संघ
 (D) उपरोक्त में से कोई नहीं

56. निम्नलिखित में से कौन अंतरव्यैक्तिक संचार के संभावित परिणाम नहीं हो सकते ?

- (A) श्रोता संदेश से पूरी तरह सहमत हो।
 (B) श्रोता संदेश से न तो सहमत है और न ही असहमत।
 (C) श्रोता संदेश से आंशिक रूप में सहमत है।

(D) श्रोता संदेश समझता नहीं।

57. संचार के संदर्भ में कौन सा कथन सत्य नहीं है ?

- (A) संचार समाज के लिये वैकल्पिक है।
 (B) संचार समाज के दीर्घकालिक संबंधों के बारे में होता है।
 (C) संचार एवं समाजीकरण एक ही बात है।
 (D) संचार के क्षेत्र में सर्वाधिक विकास 21वीं सदी में हुआ है।

58. संचार एक सतत गत्यात्मक प्रक्रिया है। निम्न में से यह किनके मध्य समन्वय स्थापित करता है ?

- (A) समाचार और स्रोत
 (B) प्रेषक, प्राप्तकर्ता और संदेश
 (C) प्रेषक और प्राप्तकर्ता
 (D) स्रोत, समाचार और माध्यम

Directions (Q. Nos. 52-55) : For each of the following words below a context is provided. From the given alternatives pick the word or phrase that is closest in meaning in the given context.

52. Feminism : Feminism is a movement for a particular type of social change.

- (A) a theory opposing women's rights.
- (B) a theory that explains difference between men and women.
- (C) a theory about poverty alleviation amongst women.
- (D) a theory supporting women's rights.

53. Yarn : He spun an elaborate yarn to hide his shortcomings.

- (A) story
- (B) cotton thread
- (C) strong cloth
- (D) none of the above

54. Robust : The athlete has a robust constitution.

- (A) forceful
- (B) healthy
- (C) determined
- (D) strong

55. Proletariat : Dictatorship of the proletariat is a phase in social evolution.

- (A) the capitalist
- (B) the working class
- (C) the trade unions
- (D) none of the above

56. Which of the following cannot be a possible outcome of interpersonal communication ?

- (A) Listener fully agrees with the message.
- (B) The listener neither agrees nor disagrees with the message.
- (C) The listener partially agrees to the message.
- (D) The listener does not understand the message.

57. Which of the following statements is not true in the context of communication ?

- (A) Communication is optional for society.
- (B) Communication relates to long standing traditions of society.
- (C) Communication and socialization are one and the same thing.
- (D) Maximum development in the field of communication took place in the 21st Century.

58. Communication is a continuous dynamic process. It establishes co-ordination amongst which of the following ?

- (A) News and source.
- (B) Sender, receiver and message.
- (C) Sender and receiver.
- (D) Source, news and medium.

59. निम्नलिखित में से कौन सा सम्प्रेषण के लिये बाधक नहीं है ?

- (A) प्रतिपुष्टि
(B) परिवेश प्रभाव
(C) शोर
(D) मतांधता

60. विज्ञापन के उद्देश्यों पर विचार कीजिये और निम्न में से सही विकल्प चुनिये ।

- (i) लोगों की स्मृति को पुनः जागृत करना ।
(ii) उत्पाद के बारे में जागृति पैदा करना ।
(iii) राष्ट्रीय परिदृश्य पर किसी उत्पाद की स्थापना ।
(iv) उत्पाद के लिये नवीन बाजार का सृजन करना ।

- (A) मात्र (i)
(B) मात्र (iv)
(C) उपरोक्त उद्देश्यों में से कोई नहीं ।
(D) उपरोक्त सभी उद्देश्य ।

61. निम्न विकल्पों में से सही क्रम वाला विकल्प चुनें ।

- (i) घर सड़क के उस पार था ।
(ii) उसने उद्यान को पहचान लिया ।
(iii) वह समझ गया कि वह कहाँ है ।
(iv) वह इलाहाबाद में ही तो था ।
(v) लाउडर रोड़ पर ।

- (A) (i), (ii), (iii), (iv), (v)
(B) (ii), (iii), (iv), (v), (i)
(C) (iii), (ii), (v), (iv), (i)
(D) (i), (iii), (v), (iv), (ii)

62. एकाधिकार का लक्षण प्रतिस्पर्धा का अभाव होता है । ए बी सी कम्पनी को यह भान है कि उसके क्रियाकलाप प्रतिस्पर्धी उद्योगों के मध्य हैं ।

उपर्युक्त कथन से निम्नलिखित में से कौन सा निष्कर्ष हो सकता है ?

- (A) ए बी सी कम्पनी का बाजार एकाधिकारी है ।
(B) एकाधिकार की परिभाषा कहती है कि एक ही विक्रेता बाजार में उपस्थित है ।
(C) ए बी सी कम्पनी एक पब्लिक कम्पनी है ।
(D) ए बी सी कम्पनी घाटे की कम्पनी है ।

63. सम्प्रेषण के व्यवधान में सम्मिलित है :

- I. सूचना फिल्टर करना
II. क्षमता से अधिक सूचना
III. रक्षात्मकता
IV. उद्देश्य की सत्यनिष्ठा

निम्नलिखित में से सही कोड चुनिये :

- (A) केवल II, III तथा IV
(B) केवल I, III तथा IV
(C) केवल I, II तथा III
(D) उपर्युक्त सभी

64. निम्नलिखित में से कौन सा सम्प्रेषण में संदेश का भाग नहीं है ?

- (A) भंगिमा
(B) भाव-भंगिमा
(C) संकेत
(D) सक्रियता से सुनना

59. Which of the following is not a barrier of communication ?

- (A) Feedback
- (B) Halo effect
- (C) Noise
- (D) Dogmatism

60. Choose one of the following options regarding objectives of advertisement.

- (i) To revive peoples' memory.
- (ii) To enlighten about the product.
- (iii) To establish a product on the national stage.
- (iv) To create new market for the product.

- (A) Only (i)
- (B) Only (iv)
- (C) None of the above objectives.
- (D) All of the above objectives.

61. Choose the option indicating the correct sequence.

- (i) The house was across the road.
- (ii) He recognized the garden.
- (iii) He knew where he was.
- (iv) He was in Allahabad, of course.
- (v) On Lowther road.

- (A) (i), (ii), (iii), (iv), (v)
- (B) (ii), (iii), (iv), (v), (i)
- (C) (iii), (ii), (v), (iv), (i)
- (D) (i), (iii), (v), (iv), (ii)

62. Monopoly is characterized by an absence of competition. The ABC Company realizes that its operations are in competitive industries.

Which of the following conclusions may be inferred from the above statement ?

- (A) The ABC Company's market is monopolistic.
- (B) Monopoly is defined as one seller in the market.
- (C) The ABC Company is a public company.
- (D) The ABC Company is loss making.

63. Barriers of communication include

- I. Filtering information
- II. Information overload
- III. Defensiveness
- IV. Integrity of purpose

Choose the correct code from the following :

- (A) II, III and IV only
- (B) I, III and IV only
- (C) I, II and III only
- (D) All of the above

64. Which of the following is a part of the message in communication ?

- (A) Posture
- (B) Gesture
- (C) Symbols
- (D) Active listening

SET-C

65. लुप्त संख्या ज्ञात कीजिए। (10)
2, 12, 36, ?, 150

- (A) 72
(B) 80
(C) 54
(D) 84

66. पटना की एक रैली में प्रत्याशी A ने उद्घोष किया : "रैली में आये सभी लोग मेरे साथ हैं। ऐसा लगता है कि मैं ही जीतूँगा।"

निम्न में से कौन सा कथन यदि सत्य है तो निष्कर्ष का सर्वाधिक संवर्धन करता है ?

- (A) A के प्रतिस्पर्धी भी रैली में उपस्थित थे।
(B) A चुनाव में कभी हारा नहीं था।

(C) रैली में A के क्षेत्र के लगभग सभी रहवासी उपस्थित थे।

(D) A को स्थानीय ग्राम प्रधान का समर्थन प्राप्त था।

67. रमेश बहुत बुरा चालक है। पिछले वर्ष उसने कम से कम छ बार यातायात नियमों का उल्लंघन किया। उपर्युक्त दावे के संदर्भ में निम्न में से किसे सही कहा जा सकता है ?

(A) तर्क जिस पूर्वधारणा पर आधारित है वह स्पष्ट उल्लेखित न होकर निहित है।

(B) तर्क के पक्ष में भौतिक साक्ष्य नहीं है।

(C) तर्क धूमिल है।

(D) तर्क स्वयं तर्कसंगत नहीं है।

68. दी गई निम्न श्रेणी में कुछ अक्षर लुप्त ह जा सक दिये गये चार विकल्पों में से एक में क्रम से दिये गये हैं। सही विकल्प है :

a_bc_a_bcd_a_ccd_bcd_

- (A) acbdbb (B) adbcad
(C) adbbad (D) abddbd

69. आप्रवासन, आगमन से उसी प्रकार संबंधित है जिस प्रकार उत्प्रवासन _____ से संबंधित है।

- (A) उत्प्रवासी (B) मूल निवासी
(C) प्रस्थान (D) विदेशीय

70. तसवीर की तरफ उँगली दिखाते हुए पुरुष औरत ने कहा, "इस पुरुष के बेटे की दादी मेरी सास है।" उस महिला के पति का तसवीर वाले पुरुष से क्या रिश्ता है ?

- (A) नाती/पोता (B) बेटा
(C) दामाद (D) भतीजा/भाँजा

71. राम ने श्याम से कहा, "कल मैंने अपनी जानी/दादी की लड़की के इकलौते भाई को हरा दिया"। राम ने रिश्ते में किसे पराजित किया ?

- (A) बेटा (B) पिता
(C) भाई (D) ससुर

72. नीचे दर्शाये अनुसार विभिन्न चिह्नों के लिये अलग-अलग अक्षर हैं :

R : योग S : व्यवकलन

T : गुणन U : भाग

V : बराबर W : से अधिक है

X : से कम है

उपर्युक्त प्रतीक चिह्नों के संदर्भ में निम्नलिखित में से कौन सा विकल्प गलत है ?

- (A) 16R2S4V6R8
(B) 20R4U4S2W3
(C) 15U5W3R2T3
(D) 30R6U2W4T5

73. निम्नलिखित वर्णमाला श्रेणी में लुप्त पद है
AYBZC, DWEXF, GUHVI, SKTL,

- (A) MQORN (B) MQNRO
(C) NQMOR (D) QMONR

65. Find the missing number.

2, 12, 36, ?, 150

- (A) 72
(B) 80
(C) 54
(D) 84

66. At a rally in Patna candidate A declared : "Nearly everyone at the rally is behind me. It looks like I will win".

Which of the following statements, if true, best supports the conclusion ?

- (A) A's opponents were present in the rally.
(B) A was never defeated in an election.
(C) The rally was attended by almost all the residents of A's constituency.
(D) A was supported by the local gram pradhan.

67. Ramesh is a very bad driver. He made at least six traffic violations during the last year. Which of the following can be said true about the above claim ?

- (A) The argument is built upon an assumption that is not stated but rather is concealed.
(B) The argument lacks material evidence.
(C) The argument is vague.
(D) The argument is totally illogical.

SET-C

68. In the following sequence some letters are missing, which are given in that order as one of the four alternatives under it. The correct alternative is

a_bc_a_bcd_a_ccd_bcd_

- (A) acbdbb (B) adbcad
(C) adbbad (D) abdbbd

69. Immigration is related to Arrival in the same way as Emigration is related to _____.

- (A) Emigrant (B) Native
(C) Leaving (D) Alien

70. Pointing to a photograph a woman says, "This man's son's sister is my mother-in-law". How is the woman's husband related to the man in the photograph ?

- (A) Grandson (B) Son
(C) Son-in-law (D) Nephew

71. Ram told Shyam, "Yesterday I defeated the only brother of the daughter of my grandmother". Whom did Ram defeat ?

- (A) Son (B) Father
(C) Brother (D) Father-in-law

72. Different letters stands for various symbols as indicated below :

R : Addition S : Subtraction

T : Multiplication U : Division

V : Equal to W : Greater than

X : Less than

Which of the following alternative is wrong with reference to above letter scheme ?

- (A) 16R2S4V6R8
(B) 20R4U4S2W3
(C) 15U5W3R2T3
(D) 30R6U2W4T5

73. The missing term in the following alphabetical series :

AYBZC, DWEXF, GUHVI, JSKTL,

....; is :

- (A) MQORN (B) MQNRQ
(C) NQMOR (D) QMORR

P/AB/2013

निर्देश : निम्नलिखित सूचना का ध्यानपूर्वक अध्ययन कीजिए तथा नीचे दिये गये प्रश्नों (74-76) के उत्तर दीजिए :

एक शहर की सभी सड़कें या तो एक दूसरे के लम्बवत हैं या समान्तर । सभी सड़कें सीधी हैं । A, B, C, D तथा E सड़कें एक दूसरे के समान्तर हैं । G, H, I, J, K, L तथा M सड़कें एक दूसरे के समान्तर हैं ।

- सड़क A, सड़क B के पूर्व में 1 किमी पर है ।
- सड़क B, सड़क C के पश्चिम में $\frac{1}{2}$ किमी पर है ।
- सड़क D, सड़क E के पश्चिम में 1 किमी पर है ।
- सड़क G, सड़क H के $\frac{1}{2}$ किमी दक्षिण में है ।
- सड़क I, सड़क J के 1 किमी उत्तर में है ।
- सड़क K, सड़क L के $\frac{1}{2}$ किमी उत्तर में है ।
- सड़क K, सड़क M के 1 किमी दक्षिण में है ।

74. यदि सड़क E, B और C के मध्य है तो A तथा D के मध्य की दूरी है

- $\frac{1}{2}$ किमी
- 1 किमी
- 1.5 किमी
- 1.5 से 2 किमी

75. निम्न में से कौन आवश्यक रूप से सत्य है ?

- E और B आपस में मिलती हैं ।
- D, B के 2 किमी पश्चिम में है ।
- D, A के कम से कम 2 किमी पश्चिम में है ।
- M, L के 1.5 किमी उत्तर में है ।

76. यदि E, B और C के मध्य है तो निम्न में से कौन सा असत्य है ?

- D, A के 2 किमी पश्चिम में है ।
- C, D से 1.5 किमी से कम दूरी पर है ।
- E से C की दूरी में E से B की दूरी का जोड़ $\frac{1}{2}$ किमी है ।
- E, A से 1 किमी से कम दूरी पर है ।

77. यहाँ स्तम्भ A तथा स्तम्भ B में दो राशियाँ दी गई हैं । आपको इन दो राशियों में तुलना कर चिह्नित करना है :

- यदि स्तम्भ A की राशि सदैव स्तम्भ B की राशि से अधिक है ।
- यदि स्तम्भ B की राशि सदैव स्तम्भ A की राशि से अधिक है ।
- यदि राशियाँ सदैव समान हैं ।
- यदि दी गई सूचना के आधार पर तुलना करना संभव न हो ।

स्तम्भ A	स्तम्भ B
बहुभुज में विकर्णों की संख्या	बहुभुज में भुजाओं की संख्या

78. सात मित्र A, B, C, D, E, F तथा G दक्षिण की तरफ मुँह करके एक पंक्ति में इस प्रकार बैठे हैं कि

- A, G के तुरन्त बायीं तरफ है ।
- G, C के बायीं तरफ चौथे स्थान पर है ।
- D, B तथा F के मध्य में है ।
- C, जो कि B के दायीं तरफ तीसरे स्थान पर है, वह एक सिरे पर है ।

निम्न में से E की सही स्थिति है :

- A के तुरन्त दायीं तरफ है ।
- F के तुरन्त बायीं तरफ है ।
- F तथा G के मध्य में है ।
- D के बायें में चौथे स्थान पर है ।

Directions : Study the following information carefully and answer the questions (74-76) given below :

All roads of a city are either perpendicular or parallel to one another. The roads are all straight. Roads A, B, C, D and E are parallel to one another. Roads G, H, I, J, K, L and M are parallel to one another.

- (i) Road A is 1 km East of road B.
- (ii) Road B is $\frac{1}{2}$ km West of road C.
- (iii) Road D is 1 km West of road E.
- (iv) Road G is $\frac{1}{2}$ km South of road H.
- (v) Road I is 1 km North of road J.
- (vi) Road K is $\frac{1}{2}$ km North of road L.
- (vii) Road K is 1 km South of road M.

74. If road E is between B and C, then distance between A and D is

- (A) $\frac{1}{2}$ km
- (B) 1 km
- (C) 1.5 kms
- (D) 1.5 to 2 kms.

75. Which of the following is necessarily true ?

- (A) E and B intersect.
- (B) D is 2 kms West of B.
- (C) D is at least 2 kms West of A.
- (D) M is 1.5 kms North of L.

76. If E is between B and C, then which of the following is false ?

- (A) D is 2 kms West of A.
- (B) C is less than 1.5 kms from D.
- (C) Distance from E to B added to distance of E to C is $\frac{1}{2}$ km.
- (D) E is less than 1 km from A.

77. Here, two quantities are given in column A and column B. You have to compare these two quantities and mark.

- (A) If the quantity in column A is always greater than the quantity in column B.
- (B) If the quantity in column B is always greater than the quantity in column A.
- (C) If the quantities are always equal.
- (D) If the comparison cannot be determined from the given information.

Column A	Column B
No. of diagonals of a Polygon	No. of sides of a Polygon

78. Seven friends A, B, C, D, E, F and G are sitting in a row facing South, such that

- I. A is to the immediate left of G.
- II. G is fourth to the left of C.
- III. D is between B and F.
- IV. C, who is third to the right of B, is at one of the ends.

Which of the following is the correct position of E ?

- (A) Immediate right of A.
- (B) Immediate left of F.
- (C) Between F and G.
- (D) Fourth to the left of D.

निर्देश : (प्रश्न संख्या 79-81) निम्नलिखित सूचना को ध्यानपूर्वक पढ़कर इसके नीचे दिये गये प्रश्नों के उत्तर दीजिए ।

- (i) A, B, C, D, E, F तथा G एक परिवार के सात सदस्य हैं ।
 (ii) इनमें से छः का अलग-अलग अकाउंटेंट, वकील, अध्यापक, मैनेजर, डॉक्टर, इन्जीनियर का व्यवसाय है और एक विद्यार्थी है ।
 (iii) परिवार में दो विवाहित जोड़े हैं ।
 (iv) A और ~~C~~ का व्यवसाय क्रमशः अकाउंटेंट व डॉक्टर का है ।
 (v) ~~B~~, B के पिता और G का दादा/नाना है और इन्जीनियर है ।
 (vi) कोई भी महिला न तो इन्जीनियर है और न ही वकील है ।
 (vii) G, जो विद्यार्थी है E का पोता/नाती है ।

79. निम्नलिखित में से कौन सा युग्म विवाहित जोड़ा है ?

- (A) BE (B) DE
 (C) BD (D) AC

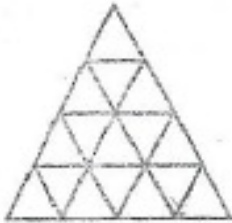
80. C का G से क्या सम्बन्ध है ?

- (A) अपर्याप्त आँकड़े (B) चाची/मामी का
 (C) बहन का (D) माँ का

81. परिवार में कितने पुरुष सदस्य हैं ?

- (A) 4 (B) 5
 (C) 3 (D) अपर्याप्त आँकड़े

82. निम्नलिखित चित्र में त्रिभुजों की संख्या कितनी है ?



- (A) 26
 (B) 33
 (C) 28
 (D) इनमें से कोई नहीं

निर्देश : (83-87) नीचे दिये गये निर्देशों को ध्यान से पढ़ने के पश्चात् दिये गये प्रश्नों का उत्तर दीजिये :

निर्देश : सात व्यक्ति P, Q, R, S, T, U और V प्रतिदिन एक विशेष गाड़ी से अपने-अपने कार्यालय जाते हैं । यह गाड़ी क्रमशः पाँच स्टेशनों पर रुकती है - रीवा, सतना, कटनी, जबलपुर एवं इटारसी । गाड़ी इन स्टेशनों से पूर्व अपने मूल स्टेशन से चलती है ।

- (i) तीन व्यक्ति गाड़ी में मूल स्टेशन से चढ़ते हैं ।
 (ii) U जिस स्टेशन पर उतरता है उसके अगले स्टेशन पर S उतरता है ।
 (iii) Q न तो P और न ही T के साथ उतरता है ।
 (iv) V अकेला कटनी में चढ़ता है और R के साथ एक स्टेशन गुजरने के बाद उतरता है ।
 (v) P मात्र दो लगातार स्टेशनों की सत्रा करने के बाद इटारसी उतर जाता है ।
 (vi) सतना में कोई भी नहीं चढ़ता ।
 (vii) R, U के साथ तो चढ़ता है परन्तु Q और S के साथ नहीं चढ़ता ।
 (viii) T दो व्यक्तियों के साथ चढ़ता है परन्तु अकेले उतरता है S के उतरने के बाद ।
 (ix) Q और S एक ही कार्यालय में काम करते हैं और कटनी साथ उतरते हैं ।
 (x) रीवा पर कोई भी नहीं उतरता ।

83. Q और S किस स्टेशन पर चढ़ते हैं ?

- (A) रीवा (B) मूल स्टेशन
 (C) कटनी (D) अपर्याप्त आँकड़े

84. कितने स्टेशन गुजरने के बाद T उतरता है ?

- (A) एक
 (B) दो
 (C) चार
 (D) इनमें से कोई नहीं

85. U के उतरने के कितने स्टेशनों के बाद T उतरता है ?

- (A) अगला स्टेशन
 (B) तीन
 (C) दो
 (D) इनमें से कोई नहीं

86. T किस स्टेशन पर उतरता है ?

- (A) सतना (B) कटनी
 (C) जबलपुर (D) अपर्याप्त आँकड़े

87. R और U किस स्टेशन पर चढ़ते हैं ?

- (A) रीवा (B) सतना
 (C) कटनी (D) अपर्याप्त आँकड़े

Directions (Q. Nos. 79-81) : Study the following information carefully and answer the questions given below it :

- (i) A, B, C, D, E, F and G are seven members of the family.
- (ii) Six of them have a different profession of Accountant, Lawyer, Teacher, Manager, Doctor, Engineer and one is a student.
- (iii) There are two married couples in the family.
- (iv) A and F's professions are Accountant and Doctor respectively.
- (v) D is the father of B and the grandfather of G and is an Engineer.
- (vi) No lady is either an Engineer or a Lawyer.
- (vii) G, who is a student is the grandson of E.

79. Which of the following is a married couple ?

- (A) BE (B) DE
(C) BD (D) AC

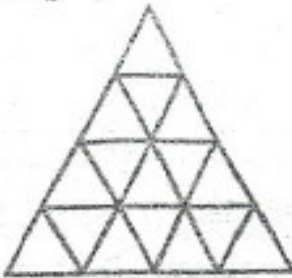
80. How C is related to G ?

- (A) Inadequate data (B) Aunt
(C) Sister (D) Mother

81. How many male members are there in the family ?

- (A) 4
(B) 5
(C) 3
(D) Inadequate data

82. How many triangles are there in the following figure ?



- (A) 26 (B) 23
(C) 28 (D) None of these

SET-C

Directions (Q. Nos. 83-87) : Read the directions given below and answer the questions that follow :

Direction : P, Q, R, S, T, U and V are seven persons who travel to office everyday in a particular train which stops at five stations - Rewa, Satna, Katni, Jabalpur and Itarsi respectively after it leaves the base station.

- (i) Three among them get in the train at the base station.
- (ii) S gets down at station next to the station at which U gets down.
- (iii) Q does not get down either with P or T.
- (iv) V alone gets in at Katni and gets down with R after passing one station.
- (v) P travels only two consecutive stations and gets down at Itarsi.
- (vi) None of them gets in at Satna.
- (vii) R gets in with U but does not get in with either Q or S.
- (viii) T gets in with two others and gets down alone after S.
- (ix) Q and S work in the same office and they get down together at Katni.
- (x) None of them gets down at Rewa.

83. At which station do Q and S get in ?

- (A) Rewa (B) Base station
(C) Katni (D) Data inadequate

84. After how many stations does T get down ?

- (A) One (B) Two
(C) Four (D) None of these

85. T gets down how many stations after U gets down ?

- (A) Next station (B) Three
(C) Two (D) None of these

86. At which station does T get down ?

- (A) Satna (B) Katni
(C) Jabalpur (D) Data inadequate

87. At which station do R and U get in ?

- (A) Rewa (B) Satna
(C) Katni (D) Data inadequate

P/3/11/2013

38. "भाषा वह साधन है, जिसके द्वारा मनुष्य अपने विचार दूसरों तक भली-भाँति प्रकट कर सकता है।" यह कथन किसका है ?
- (A) महावीर प्रसाद द्विवेदी
(B) कामता प्रसाद गुरु
(C) रामचन्द्र शुक्ल
(D) किशोरीलाल बाजपेयी

89. समुद्रगुप्त "भारत का नेपोलियन" था। यहाँ नेपोलियन किस प्रकार की संज्ञा का उदाहरण है ?
- (A) व्यक्तिवाचक
(B) जातिवाचक
(C) भाववाचक
(D) समूहवाचक

90. निम्नलिखित में कौन सा अनिश्चयवाचक सर्वनाम नहीं है ?
- (A) कुछ भी
(B) कुछ-न-कुछ
(C) सब कुछ
(D) जो, वह

91. द्विकर्मक वाक्य में कर्मकारकीय विभक्ति 'को' किस पद के साथ प्रयुक्त होती है ?
- (A) प्रधान कर्मपद के साथ
(B) क्रियापद के साथ
(C) सौभवापद के साथ
(D) सौभवापद के साथ

92. "समुद्रोर्मि" का सही संधि-विच्छेद क्या है ?
- (A) समुद्र + उर्मि
(B) समुद्र + ओर्मि
(C) समुद्र + ऊर्मि
(D) समुद्रो + उर्मि

93. "भारतीय" शब्द का बहुवचन क्या होता है ?
- (A) भारतीयों
(B) भारती
(C) भारतियों
(D) उपरोक्त में से कोई नहीं

निर्देश : प्रश्न संख्या 94 से 98 के उत्तर निम्नलिखित अवतरण के आधार पर दीजिए।

"पाश्चात्य सभ्यता एवं संस्कृति में बहुत-सी अच्छी बातें होते हुए भी वह मूलतः अधिकार प्रधान, भोग प्रधान है, उसमें अपने सुख की प्रवृत्ति प्रधान है। इसलिए यहाँ प्रधान जोर शरीर-सुख-भोग तथा उसके निमित्त अगणित साधन जुटाने की ओर है; जबकि भारतीय संस्कृति अनेक बुराइयों के होते हुए भी मुख्यतः धर्म प्रधान, कर्तव्य प्रधान, त्याग और तपस्यामूलक संस्कृति है। विश्व मानव या विश्व-मानवता एवं संस्कृति का निर्माण तभी संभव है जब मनुष्य अपने शरीर का विचार इस साम्राज्य तक न करे कि उस प्रयत्न में वह आत्मा, वह प्राणज्योति ही तिरोहित हो जाये जो मानव को मानव बनाती है। स्पष्टतः भारतीय संस्कृति में, अहिंसक जीवन निर्माण की, दूसरों के लिए जीने की सम्भावनाएँ अधिक होने से गांधीजी का विश्वास था कि भारतीय संस्कृति ही हमारे जीवन का दीप है और वही विश्व-संस्कृति या विश्व-मानवता की आधारशिला बन सकती है।"

94. पाश्चात्य संस्कृति के सम्बन्ध में कौन सा कथन सत्य है ?
- (A) वह शारीरिक सुख को प्रधानता देने वाली संस्कृति नहीं है।
(B) वह भारतीय संस्कृति से उत्प्रेरित है।
(C) वह भौतिकवादी संस्कृति है।
(D) वह आत्मवादी और आर्यप्रधान संस्कृति है।

95. इनमें से कौन सा कथन सत्य है ?

- (A) पाश्चात्य संस्कृति पूर्णतः निवृत्तिमूलक है ।
 (B) पाश्चात्य संस्कृति सुख भोग के साधन नहीं जुटाती ।
 (C) पाश्चात्य संस्कृति मानव जीवन का दीप है ।
 (D) भारतीय संस्कृति में दूसरों के लिए जीने का भाव प्रधान है ।

96. मानव, मानव नहीं रह जाता जब

- (A) वह मात्र अपने निमित्त सुख-सुविधाएँ जुटाने का आग्रह नहीं होता ।
 (B) वह भोगवाद के पीछे अंधी दौड़ नहीं लगाता ।
 (C) उसके भीतर की प्राणज्योति तिरोहित होने लगती है ।
 (D) वह जीवन को विश्व-मानवता के संदर्भ में देखता है ।

97. निम्नलिखित में भारतीय संस्कृति की विशेषता कौन सी है ?

- (A) परार्थ के लिए जीने की प्रवृत्ति ।
 (B) अहिंसक जीवन निर्माण की प्रवृत्ति ।
 (C) प्राणज्योति की उपेक्षा की प्रवृत्ति ।
 (D) धर्म, कर्तव्य, त्याग और तपस्या की प्रवृत्ति ।

98. उपर्युक्त गद्यांश के -

“... वही विश्व-मानवता को आधारशिला बन सकती है ।” - वाक्य में ‘वही’ सर्वनाम किसके लिए आया है ?

- (A) प्रवृत्तिमूलकता के लिए ।
 (B) निवृत्तिमूलकता के लिए ।
 (C) विश्वसंस्कृति के लिए ।
 (D) भारतीय संस्कृति के लिए ।

99. निम्न में से कौन सी ‘दिनकर’ की रचना नहीं है ?

- (A) उर्वशी
 (B) कुरुक्षेत्र
 (C) भृगुनयनी
 (D) रश्मिरेखी

100. ‘मंगल भवन अमंगल हर्त ।’

ब्रह्म उच्यते इत्यर्थे अग्निरुच्यते ।।”

इन पंक्तियों में कितना छन्द का प्रयोग हुआ ?

- (A) सोरठ
 (B) चौपाई
 (C) दोहा
 (D) सवैया