

TIRUMALA TIRUPATI DEVASTHANAMS

JUNIOR ASSISTANTSTS, UD STENO, LD STENO, LD TYPIST, ASST/SHROFF EXAM MODEL PAPER

- 2,4,6,10,16,26,...
 1. 42
 2. 52
 3. 55
 4. 32
- ఒక ప్రత్యేక భాషలో నలుపును ఎరుపుగా, ఎరుపును పసుపు రంగుగా, పసుపు రంగును ఆకుపచ్చ రంగుగా, ఆకుపచ్చ రంగును తెలుపుగా, తెలుపును నలుపుగా పిలిస్తే, ఆ భాషలో పాలు ఏ రంగులో ఉన్నాయని చెప్పవచ్చు.
 1. తెలుపు
 2. ఆకుపచ్చ
 3. నలుపు
 4. ఎరుపు
- ఒక వరుసలో 21 మంది విద్యార్థులు ఉన్నారు. అందులో కిరణ్ తన స్థానం నుంచి కుడివైపు నాలుగు స్థానాలు జరగడం వల్ల ఎడమ నుంచి 12వ స్థానానికి చేరుకున్నాడు, అయితే తన మొదటిస్థానం కుడి నుంచి ఎన్నవది?
 1. 8
 2. 14
 3. 12
 4. 10
- DIVISION ను DIVISION గా వ్రాసినట్లయితే STATES ను ఏవిధంగా వ్రాస్తారు?
 1. SATETS
 2. STAETS
 3. SATTES
 4. SAETTS
- ఒక తండ్రి కుమారుని సగటు వయస్సు 40.5 సంవత్సరాల కిందట వారి సగటు వయస్సు?
 1. 40
 2. 35
 3. 37 1/2
 4. 42 1/2

సూచన: 6 నుంచి 10 ప్రశ్నల వరకు సూచనలు : పట్టసభల్లో మహిళలకు 33% రిజర్వేషన్ కల్పించాలనే అంశంపై చర్చించడానికి ఎనిమిది మంది మహిళా రాజకీయ ప్రముఖులు సోనియాగాంధీ, మాయావతి, మమతా బెనర్జి, జయలలిత, షీలాదీక్షిత్, ఉమాభారతి, రఘీదేవి, వసుంధర రాజేలు సమావేశమయ్యారు. వీరందరూ ఒక రౌండ్ టేబుల్ చుట్టూ కింద చెప్పి విధంగా కూర్చున్నారు.

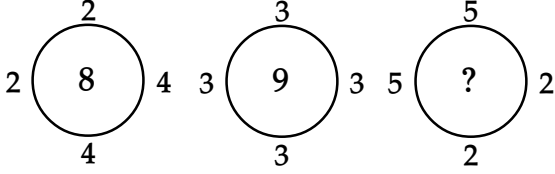
 - సోనియాగాంధీకి ఎదురుగా ఉమాభారతి, మాయావతికి ఎదురుగా రఘీదేవి కూర్చున్నారు.
 - సోనియాగాంధీకి కుడివైపున జయలలిత, ఉమాభారతికి ఎడమవైపున షీలాదీక్షిత్ కూర్చున్నారు.
 - రఘీదేవికి కుడివైపున వసుంధర రాజే కూర్చున్నారు. అయితే
- ఎవరెవరి మధ్యలో సోనియాగాంధీ కూర్చున్నారు?
 1. మాయావతి, రఘీదేవి
 2. వసుంధర రాజే, రఘీదేవి
 3. జయలలిత, వసుంధర రాజే
 4. జయలలిత, మాయావతి.
- ఉమాభారతి, రఘీదేవిల మధ్యలో కూర్చున్నది ఎవరు?
 1. మమతా బెనర్జి
 2. వసుంధర రాజే
 3. షీలాదీక్షిత్
 4. సోనియాగాంధీ
- మాయావతికి కుడివైపున కూర్చున్నది ఎవరు?
 1. ఉమాభారతి
 2. షీలాదీక్షిత్
 3. జయలలిత
 4. రఘీదేవి
- జయలలితకు ఎడమవైపు కూర్చున్నది?
 1. మాయావతి
 2. రఘీదేవి
 3. సోనియాగాంధీ
 4. షీలాదీక్షిత్
- షీలాదీక్షిత్ ఎదురుగా కూర్చున్నది ఎవరు?
 1. వసుంధర రాజే
 2. సోనియాగాంధీ
 3. మాయావతి
 4. ఉమాభారతి

సూచన: 11 నుండి 14 ప్రశ్నల సమాధానాలు క్రింది వానినాధారముగా కనుగొనుము?

A అనునది B లేక C ని కల్గింపచేయును. కాని రెంటిని మాత్రము కాదు. F అనునది B కల్గినప్పుడు కల్గును. D అనునది G లేక C కల్గినప్పుడు కల్గును. E అనునది C కల్గినప్పుడే కల్గును. J అనునది E లేక F కల్గినప్పుడే కల్గును. D అనునది G లేక H లేక రెంటిని కల్గజేయును. E కల్గినప్పుడు H కల్గును. F కల్గినప్పుడు G కల్గును.
- A కల్గినప్పుడు ఏది కల్గవచ్చును?
 1. F మరియు H
 2. E మరియు H
 3. D మాత్రమే
 4. F,G మరియు D
- B కల్గినప్పుడు ఏది కల్గును?
 1. F మరియు G
 2. E మరియు F రెండును
 3. D
 4. D మరియు H
- J కల్గినప్పుడు ఏది కల్గును?
 1. E
 2. E మరియు F రెండును
 3. G
 4. B లేక C
- ఏది కల్గినదో తెలియనప్పుడు ఏది కల్గుట సంభవము?
 1. D మాత్రమే
 2. D మరియు A
 3. D మరియు F
 4. D,A మరియు E
- కింది సీరిస్లో సరిసంఖ్య ముందు సరిసంఖ్య, సరిసంఖ్య తర్వాత బేసిసంఖ్య ఉండేలా ఎన్ని సంఖ్యలు ఉన్నాయి?
3 6 4 5 2 1 4 4 2 3 5 5 7 9 6 4 2 8 2 1 5 7 4 2 3
 1. 1
 2. 2
 3. 3
 4. 4


సూచన: ప్రశ్నలో అంకెలు ఒక పద్ధతి ననుసరించి ఇవ్వబడినవి. వానిలో ప్రశ్నార్థకముతో ? గుర్తించబడిన, అంకెను గుర్తింపుము?
- 74, 73, 69, 60, 44, ?
 1. 29
 2. 39
 3. 19
 4. 35
- కృష్ణ ఉత్తరం వైపునకు 2 కి.మీ. నడచి, పడమర వైపు 3 కి.మీ. నడచెను. తిరిగి 6 కి.మీ. దక్షిణం వైపునకు నడచెను. బయలుదేరిన స్థానము నుండి ఎంత దూరంలో వున్నాడు?

1. 2 కి.మీ.
 2. 3 కి.మీ.
 4. 4 కి.మీ.
 4. 5 కి.మీ.
18. ఒక ఆఫీసులో జేమ్సు, సోహన్ కంటే పెద్ద హోదా కలవాడు మరియు రాహుల్, సోహన్ కంటే చిన్న హోదా వాడు. అందరి కంటే చిన్న హోదా వాడెవడు?
1. సోహన్
 2. రాహుల్
 3. జేమ్సు
 4. సోహన్, రాహుల్
19. ఈ క్రింద యివ్వబడిన ప్రశ్నలోని '?' స్థానములోని సంఖ్యను గుర్తించుము.



1. 10
 2. 8
 3. 7
 4. 6
20. ఒక కుటుంబంలో మోహన్ అతని భార్య నలుగురు కొడుకులున్నారు. వారిలో ఒకరు బ్రహ్మచారి. మరొకరికి పిల్లలు లేరు. మిగతా ఇద్దరికి ఇద్దరు చొప్పున పిల్లలున్నారు. మొత్తం ఆ కుటుంబంలో సభ్యులెంతమంది?
1. 13
 2. 12
 3. 6
 4. 10

సూచన: ఈ క్రింద ఇవ్వబడిన ప్రశ్నకు దిగువ ఇవ్వబడిన వలయ చార్టు ఆధారంగా సమాధానములు ఇవ్వవలెను. ఈ వలయ చార్టు ఒక వ్యక్తి యొక్క మాసాంతర జీతము ఏ విధంగా పంపిణీ చేయబడినదో చూపించును. ఈ వలయ చార్టు ఒక వ్యక్తి యొక్క నెల జీతములోని ఖర్చుల శీర్షికలను చూపుము.



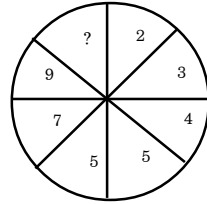
21. ఒక వ్యక్తియొక్క నెలసరి వేతనము రూ. 6,000 అతడు నెలకు రూ. 1,000లకు పైగా అన్ని అంశములపై ఖర్చుచేయవలెను?
1. 1
 2. 2
 3. 3
 4. 4
- 22 నుంచి 24 ప్రశ్నలకు సూచనలు :**

కింద ఇచ్చిన అంశాన్ని చదివి, దాని ఆధారంగా ప్రశ్నలకు సమాధానాలు గుర్తించండి.

- ఆరుగురు మిత్రులు అరుణ, మాధవి, పద్మ, నాగమణి, సఫియ, నిర్మలలు ఒక వరుసలో కింద చెప్పిన విధంగా కూర్చున్నారు.
- ఎడమ చివర అరుణ, కుడి చివర మాధవి కూర్చున్నారు.
- అరుణ, నాగమణి మధ్యలో పద్మ కూర్చుంది.
- నాగమణి, సఫియాలు పక్కపక్కన కూర్చున్నారు. అయితే

22. సఫియ, మాధవిల మధ్యలో ఎవరు కూర్చున్నారు?
1. అరుణ
 2. పద్మ
 3. నాగమణి
 4. నిర్మల
23. పద్మకు ఇరువైపుల కూర్చున్నది ఎవరు?
1. అరుణ, మాధవి
 2. అరుణ, నాగమణి
 3. నాగమణి, సఫియ
 4. నిర్మల, సఫియ

24. కుడి చివరి నుంచి రెండో స్థానంలో ఉన్న వ్యక్తి ఎవరు?
1. మాధవి
 2. నిర్మల
 3. సఫియ
 4. అరుణ
25. ప్రస్థార్థకము (?) గల చోట సరియగు సంఖ్యను సూచించుము?



1. 10
 2. 11
 3. 12
 4. 13
- సూచన:** ప్రశ్నలు 26 నుండి 29 వరకు గల ప్రశ్నలు ఈ క్రింది వివరములపై ఆధారపడి యున్నవి.
- ఒక కుటుంబమునందు A,B,C,D,E,F అను 6గురు సభ్యులు గలరు. 'C' అను ఆమె 'A' నకు సోదరి 'A' అనువాడు 'E' అను ఆమెయొక్క భర్త సోదరుడు 'D' అనువాడు 'A' నకు తండ్రి మరియు 'D' అనువాడు 'F' నకు తాత. ఈ కుటుంబములో తండ్రుల సంఖ్య 2, సోదరుల సంఖ్య 3 మరియు తల్లి ఒకతే.

26. దిగువ వారిలో సోదరులు ఎవరు?
1. ABC
 2. ABD
 3. ABF
 4. ఎవరూ కాదు.
27. తల్లి ఎవరు?
1. B
 2. C
 3. D
 4. E
28. ఈ కుటుంబములో పురుషుల సంఖ్య?
1. 1
 2. 2
 3. 3
 4. 4
29. E అను ఆమె భర్త ఎవరు?
1. A
 2. B
 3. C
 4. D

30. ఒక కుటుంబంలో మోహన్ అతని భార్య నలుగురు కొడుకులున్నారు. వారిలో ఒకరు బ్రహ్మచారి. మరొకరికి పిల్లలు లేరు. మిగతా ఇద్దరికి ఇద్దరు చొప్పున పిల్లలున్నారు. మొత్తం ఆ కుటుంబంలో సభ్యులెంతమంది?
- 1) 13
 - 2) 12
 - 3) 6
 - 4) 10

31. దక్షిణానికి నైరుతి, అలాగే పశ్చిమానికి
- 1) ఈశాన్యం
 - 2) తూర్పు
 - 3) ఆగ్నేయం
 - 4) నైరుతి

32. ఒక తరగతిలో మోహన్ కు సైమన్ కంటే ఎక్కువ మార్కులు వచ్చెను. హరికి సైమన్ కంటే తక్కువ మార్కులు వచ్చెను. అందరికంటే తక్కువ మార్కులెవరికి వచ్చెను.?

- 1) హరి
- 2) సైమన్
- 3) మోహన్
- 4) సైమన్, హరి

సూచన: ప్రశ్నలను చదివి వాటిలో సమాహానికీ చెందని వాటిని (ఆడమన్ అవుట్) గుర్తించండి.

33. 1. జవహర్ లాల్ నెహ్రూ
2. జయప్రకాష్ నారాయణ్
 3. లాల్ బహదూర్ శాస్త్రి
 4. మొరార్జీదేశాయ్
34. 1. కర్ణుడు
2. అర్జునుడు
 3. సహదేవుడు
 4. ధర్మరాజు

35. ఒక ప్రత్యేక భాషలో నలుపును ఎరుపుగా, ఎరుపును పసుపు రంగుగా, పసుపు రంగును ఆకుపచ్చ రంగుగా, ఆకుపచ్చ రంగును తెలుపుగా, తెలుపును నలుపుగా పిలిస్తే, ఆ భాషలో పాలు ఏ రంగులో ఉన్నాయని చెప్పవచ్చు.
- 1) తెలుపు 2) ఆకుపచ్చ
3) నలుపు 4) ఎరుపు
36. ఒక రహస్య భాషలో "1357" అంటే "We are very happy" అని, "2638" అంటే "They are extremely lucky" అని "794" అంటే "Happy and lucky" అని అర్థం. అయితే ఈ రహస్య భాషలో ఏ అంకె "are" అనే పదాన్ని సూచిస్తుంది?
- 1) 1 2) 3
3) 5 4) 7
37. 1948 సం॥ ఆగస్టు 19వ తేదీ ఏ వారం అవుతుంది?
1. శుక్రవారం 2. శనివారం
3. గురువారం 4. బుధవారం
38. 6, 5, 7, 8, 16, 14, 51, 26, ---
1. 216, 50 2. 208, 64
3. 208, 50 4. 216, 64
39. 2,4,6,10,16,26,...
1. 42 2. 52
3. 55 4. 32
40. a_ca__ab_a_c
1. bbcbb 2. bcbbc
3. bbccb 4. bbcb
41. ఒక డి. చ. వైశాల్యం 40182 చ.మీ. దాని పొడవు 362 మీ. అయిన దాని వెడల్పు ?
1. 362 మీ. 2. 326 మీ.
3. 121 మీ. 4. 111 మీ.
42. అనే వ్యక్తి రూ.పది వేలతో ఒక వ్యాపారం ప్రారంభించాడు. ఆరు నెలల తర్వాత రూ.15వేలతో ఆ వ్యాపారంలో చేరాడు. మరో ఆరు నెలల తర్వాత వారికి రూ.3500 లాభం వస్తే వాటా ఎంత?
1. రూ.2000 2. రూ.15000
3. రూ.2500 4. రూ.3000
43. రూ.1,20,000 ఆస్తిపై పన్ను రూ.8,000 అయితే రూ.11,000 ఆపై పన్నుగా నిర్ధారించిన ఆస్తి విలువ?
1. రూ.1,65,000 2. రూ. 1,60,000
3. రూ.1,85,000 4. రూ. 1,80,000
44. 10 మంది కలిసి ఒక పనిని 15 రోజుల్లో పూర్తి చేయగలిగితే 6 గురితే ఆ పనిని పూర్తి చేయుటకు పట్టు రోజులు?
1. 25 2. 30
3. 20 4. 24
45. $x^2 + 7x + 12$ కు ఒక కారణాంకం?
1. $x - 3$ 2. $x + 3$
3. $x + 5$ 4. $x - 5$
46. ఒక వృత్తాకార పళ్ళెం వ్యాసం 7.5 సెం.మీ. 15 సెం.మీ. వ్యాసం గల పళ్ళెంతో పోలిస్తే మొదటి పళ్ళెం వైశాల్యం?
1. 1 : 4 2. 1 : 6
3. 1 : 8 4. 2 : 5
47. 5 సెం.మీ., 12 సెం.మీ., 13 సెం.మీ., భుజాలుగా గల త్రిభుజ వైశాల్యం?
1. 25 సెం.మీ.² 2. 35 సెం.మీ.²
3. 32 సెం.మీ.² 4. 30 సెం.మీ.²
48. 10,20ల మధ్య గల ప్రధాన సంఖ్యలు ఎన్ని?
1. 3 2. 4
3. 5 4. 6
49. $\sqrt{5} \times \quad \times \quad \times 5 = ?$
1. 4 2. $25\sqrt{5}$
3. 25 4. 5
50. A ఒక పనిలో $\frac{1}{3}$ వంతు భాగాన్ని 5 రోజులలో మరియు అదే విధంగా B పనిలో $\frac{2}{3}$ వ వంతు భాగాన్ని 10 రోజులలో చేయగలరు. అయితే వీరిరువురు కలిసి చేసిన ఎన్ని రోజులలో ఆ పని పూర్తి చేయగలరు?
1. $9\frac{3}{8}$ 2. $7\frac{3}{5}$
3. 12 4. 11
51. $1 + [1 - \{-1 + (1 - \overline{1+1})\}] = ?$
1. 1 2. 2
3. 3 4. 4
52. $\sqrt{200 - \sqrt{16}} = ?$
1. 10 2. 14
3. 4 4. 16
53. స్వర్ణ మరియు లతలు ఒక పనిని వరుసగా 10 మరియు 15 రోజులలో పూర్తి చెయ్యగలరు. అయితే లత ప్రారంభించిన 5 రోజుల తర్వాత స్వర్ణ వచ్చి పనిలో చేరింది. మొత్తం పని ఎన్నిరోజులకు పూర్తి అవుతుంది.
1. 8 రోజులు 2. 9 రోజులు
3. 11 రోజులు 4. 14 రోజులు
54. 280 మీ॥ పొడవు గల ఒక రైలు 60 కి.మీ/గం. వేగంతో ప్రయాణిస్తుంది. ఆ రైలు 220 మీ. పొడవుగల ఒక ప్లాట్ ఫారం దాటుటకు ఎంత సమయం తీసుకుంటుంది?
1. 20 sec 2. 25 sec
3. 30 sec 4. 35 sec
55. ఒకడొక ఇంటిని 12,500 రు॥లు కొని 2,500 రు.లకు మరమ్మత్తులు చేయించి 12,000 రు॥లకు అమ్మెను. అయిన అతనికి వచ్చిన నష్టశాతం ఎంత?
1. 5% 2. 10%
3. 15% 4. 20%
56. ఒకని ఆస్తిలో $\frac{3}{7}, \frac{4}{13}$ వంతులకు గల వ్యత్యాసం రూ. 9,878 అయిన అతని మొత్తము ఆస్తిలో $\frac{1}{4}$ వంతు ఎంత?
1. 19429.5 2. 81918
3. 20429.5 4. 41210
57. ఒక చతురస్ర చుట్టుకొలత 596 మీటర్లు దాని భుజం
1. 941 మీటర్లు 2. 914 మీటర్లు
3. 419 మీటర్లు 4. 149 మీటర్లు

58. $16.888 - ? = 12.444$
 1. 3.333 2. 2.222
 3. 1.234 4. 4.444
59. $76450 + ? = 46250 + 36850$
 1. 6,000 2. 5,550
 3. 6,650 4. 4,550
60. $\sqrt{998001} = ?$
 1. 739 2. 999
 3. 981 4. 949

(Directions 61 to 65): sentences are given with blanks to be filled in with an appropriate and suitable word. Four alternatives are suggested for each question. Choose the correct alternative out of the four in the Answer Sheet.

61. Are you really desirous____visiting Japan?
 1. of 2. in
 3. to 4. about
62. When Indians from the south move north, they find certain aspects of life quite____from their own.
 1. strange 2. separate
 3. different 4. divergent
63. The sky is overcast, we____the storm will soon burst.
 1. expect 2. hope
 3. trust 4. suspect
64. Population increase____with depletion of foreign reserves has led to great daily hardships.
 1. joined 2. mixed
 3. added 4. coupled

Choose the Synonym of the following :

65. Kink
 1. Unite 2. Bind
 3. Bend 4. None
66. Knave
 1. Cheat 2. Simple
 3. merge 4. None
67. charged
 1. suspected 2. accused
 3. filled 4. entrusted

Choose the Antonym of the following :

68. Dependable
 1. independent 2. creditable
 3. unreliable 4. unapproachable
69. Birth
 1. anniversary 2. resurrection
 3. death 4. life

Directions : In the following questions, groups of four words are given. In each group one word mis-spelt. Find the mis-spelt word and indicate it in answer sheet.

70. 1. syllable 2. solemn
 3. seize 4. seige
71. 1. hooligan 2. honourable
 3. honorarium 4. homogenous
72. 1. allergy 2. accommodation
 3. ankel 4. anxiety

73. 1. embarrasment 2. merriment
 3. judgement 4. impediment

Direction (74-77): In each of the following sentences there are two blank spaces. Below each sentence there are five pairs of words denoted by numbers (1), (2), (3), and (4). Find out which pair of words can be filled up in the blanks in the sentence in the same sequence to make the sentence grammatically correct and meaningfully complete.

74. To avoid____, there is a need for____planning of the project.
 1. cancellation, broad 2. problem, deliberate
 3. pitfalls, systematic 4. inconvenience, convenient
75. A good management will decide not only the____for equipment but also its____for deciding priorities.
 1. need, urgency
 2. usefulness, utility
 3. cost, value
 4. requirement, necessities
76. ____appears to be a small error in the beginning may turn out to be a____in the long run.
 1. It, disaster 2. What, blunder
 3. That, debacle 4. It, slip
77. Being very____in nature, he always uses his____skills.
 1. adamant, soft 2. polite, basic
 3. humble, experimental 4. pushy, persuasive

Direction (78-80): Read the following passage carefully and answer the questions.

Many poor farmers had been compelled to take up indigo cultivation when the british settlers were given the right to purchase and cultivate land in India. Many whites, therefore, either acquired land or advanced loans to poor farmers and pressured them to forsake the farming of food grains and other cash crops for indigo cultivation, resulting in a famine in Bengal. When the farmers declined to cultivate indigo, they were tortured, jailed and even killed.

78. The poor farmers in Bengal took up indigo cultivation because
 1. The government in Bengal gave them subsidies for this purpose
 2. It was a money earning crop
 3. They were forced to do so
 4. This was the only crop that would grow in this region
79. British settlers bought land in Bengal in order to
 1. To cultivate indigo
 2. Grow crops for the poor farmers
 3. Own agricultural property
 4. Settle down in India
80. Indigo export was profitable for the British settlers because
 1. labour was cheap
 2. They had no competitioners
 3. The land was fertile
 4. They could oppress the farmers

సూచన : క్రింది గద్య భాగాన్ని చదివి దాని తరువాత ఇచ్చిన వాక్యాల్లో ఖాళీ ఉన్న భాగాలకు, క్రింది ఇచ్చిన పదాల నుండి తగిన దానిని ఎన్నుకొని దాని సంఖ్యను మీ సమాధానం పత్రంలో గుర్తించండి.

తూర్పు ఆసియాలో జపాన్ ప్రత్యేక స్థానం పొందడానికి కారణం ఆ దేశం ఆసియా భూభాగానికి దూరంగా ప్రత్యేక ద్వీపంగా ఉంటుంటే. ఈ విషయములో బ్రిటన్ కు జపాన్ కు కొంత పోలిక కలదు. బ్రిటన్ ను, యూరప్ భూభాగం నుండి వేరు చేయు ఇంగ్లీషు జలసంధి వెడల్పు 33.6 కి.మీ. అయితే జపాన్ ను ఆసియా భూభాగం నుండి వేరు చేయు జలసంధి వెడల్పు 184 కి.మీ. ప్రాచీన జపాన్ పై ప్రభావం కలిగిన దేశాలు. చైనా, కొరియాలు. చైనా ప్రభావము కూడా కొరియా ద్వారానే జపాన్ పై ప్రసరించినది. జపాన్ పరిమాణంలో ప్రాన్స్ కన్నా చిన్నది. జపాన్ పర్వతమయమైన దేశమైనా విశేష జనాభాను కల్గియున్నది. జపాన్ సాగుబడి దేశములో 1/5వ భాగము మాత్రమే వ్యవసాయమునకు తగిఉంది. ఈ నేలలు అంతసారవంతమైనవి కాదు. ఇక్కడ హెచ్చు వర్షపాతము వలన వెదురు అధికముగా లభించును. జపాన్ ప్రజలు ఆహారానికి సముద్ర చేపలపై ఆధారపడవారు. ఈ దేశంలో నైరుతి భాగము వ్యవసాయమునకు వీలు కల్గియున్నది. జపాన్ ప్రప్రథమ సంస్కృతి క్రీ.పూ. 3000లో వ్యాప్తి చెందింది. దీనికి జోమోన్ సంస్కృతి అని పేరు. యయోయి సంస్కృతి కాలములో జపాన్ లో వ్యవసాయం అభివృద్ధి చెందెను.

81. జపాన్ ఏ ఖండములో కలదు?
1. దక్షిణాసియా
 2. తూర్పు ఆసియా
 3. ఉత్తర అమెరికా
 4. మధ్య ఆసియా
82. జపాన్ దేశం ఒక?
1. జలసంధి
 2. ద్వీపం
 3. ద్వీపకల్పం
 4. ఏదికాదు
83. జపాన్ దేశమునకు ఏ దేశముతో పోలిక కలదు?
1. భారతదేశము
 2. అమెరికా
 3. ప్రాన్స్
 4. బ్రిటన్
84. యూరప్ భూభాగము నుండి బ్రిటన్ ను వేరు చేయునది?
1. పాక్ జలసంధి
 2. నయాగరా
 3. ఇంగ్లీషు జలసంధి
 4. లాటిన్ జలసంధి
85. ప్రాచీన జపాన్ పై ప్రభావం కలిగిన దేశాలు?
1. చైనా, కొరియా
 2. చైనా
 3. కొరియా
 4. ఏదికాదు
- నిర్దేశములు : క్రింది ప్రశ్నలలో (ప్రశ్న 86-90): ఒక్కొక్కటి నాలుగేసి వాక్యాలను కలిగియున్నది. వాటి ప్రస్తుత క్రమములో ఆ వాక్యాలలో ఏ విధమైన సమన్వయము గానీ సంబంధము గానీ వికాసముగానీ లేదు. వాటిని సవరించి ఒక క్రమములో పెట్టినప్పుడు మాత్రమే సమన్వయము గల పరిచ్ఛేదముగా ఏర్పడుతాయి క్రింద సూచించిన క్రమములో సరియైనది ఎన్నుకొని, మీ సమాధానాన్ని 1,2,3 లేదా 4 మీ సమాధాన పత్రాలలో గుర్తించండి.
86. ఎ. జ్యోతి ఒక ఉపాధ్యాయురాలిగా పనిచేస్తుంది
బి. వారు పేదలకు సేవకు చేస్తారు
సి. దానిలో వాళ్ళకెంతో సంతోషము లభిస్తుంది
డి. ఆమె భర్త డాక్టరు.
- 1) సి, ఎ, బి, డి
 - 2) ఎ, బి, సి, డి
 - 3) ఎ, డి, బి, సి
 - 4) బి, ఎ, సి, డి
87. ఎ. అతను విజ్ఞాన శాస్త్రం బోధిస్తాడు
బి. తీరిక సమయములో అతను పాడడం నేర్చుకుంటాడు
సి. క్రీష్ణ ఒక ఉపాధ్యాయుడు
డి. అప్పుడప్పుడు అతడు టి.వి. ప్రోగ్రాములలో పాడుతాడు

- 1) సి, ఎ, బి, డి
 - 2) బి, ఎ, డి, సి
 - 3) డి, సి, ఎ, బి
 - 4) ఎ, బి, సి, డి
88. ఎ. అతను యువకుడు మరియు బాధ్యత గల అబ్బాయి
బి. అదే సంవత్సరంలో అతని తండ్రి మరణించాడు
సి. అతడు పరిహేను సంవత్సరాలకు పదవతరగతి పాసైనాడు
డి. అప్పటి నుండే అతను తన కుటుంబాన్ని పోషించుటకై దుకాణంలో పనిచేస్తున్నాడు.
- 1) డి, సి, బి, ఎ
 - 2) సి, బి, ఎ, డి
 - 3) బి, సి, డి, ఎ
 - 4) బి, సి, డి, ఎ
89. ఎ. రంగ వరంగల్ లో నివసిస్తాడు.
బి. హైద్రాబాద్ నుండి 160 కి.మీ. దూరంలో వరంగల్ ఉన్నది
సి. కాబట్టి రంగ రైలు ద్వారా మూడుగంటల ప్రయాణము చేయును.
డి. అతను హైదరాబాద్ లో పనిచేస్తాడు.
- 1) ఎ, బి, సి, డి
 - 2) ఎ, డి, సి, బి
 - 3) సి, డి, బి, ఎ
 - 4) ఎ, బి, డి, సి
90. ఎ. ఒక అమ్మాయిని పక్కింటివాడు దబ్బలు కొరకు ఎత్తుకు పోయినాడు.
బి. అన్నేషణను ఎస్.ఐ పర్యవేక్షించినాడు
సి. తప్పిపోయిన అమ్మాయి గురించి పోలీసులకు తల్లి తెలియజేసింది
డి. 20 మంది స్థానికులను అడిగి తెలుసుకోవడము జరిగింది.
- 1) ఎ, సి, బి, డి
 - 2) ఎ, డి, బి, సి
 - 3) ఎ, బి, సి, డి
 - 4) సి, ఎ, బి, డి
91. పూర్వం జరిగిన కథను ఇలా పిలుస్తాం ?
1. పురాణం
 2. చరిత్ర
 3. ఇతిహాసం
 4. వేదం
92. గర్విష్ఠిని ఇలా అని కూడా అంటాం?
1. బుధుడు
 2. ఉపకర్త
 3. ఉద్ధతుడు
 4. యోగి
93. 'కాణాచి' అంటే ?
1. అదొక రాగం
 2. నిలయం
 3. దేవాలయం
 4. అదో ఊరు
94. 'క్షతగాత్రుడు' అంటే?
1. రోగి
 2. యుద్ధం చేయువాడు
 3. వీరుడు
 4. గాయపడినవాడు
95. 'తివిరి' అంటే?
1. ప్రయత్నం చేసి
 2. దొంగతనం చేసి
 3. వంట చేసి
 4. సినిమా చూసి
96. "వాతూలము" అనగా ?
1. బురద
 2. మేఘము
 3. సముద్రము
 4. గాలి
97. "చాత్రులు" అంటే ?
1. రాజులు
 2. మిత్రులు
 3. శిష్యులు
 4. శత్రువులు
98. 'హరి' నానార్థం కానిది ఏది?
1. విష్ణువు
 2. కోతి
 3. కప్ప
 4. రాజు
99. 'పీతాంబరుడు' వ్యుత్పత్తి ఏది ?
1. పసుపు పచ్చని అంబరాలు గలవాడు
 2. పులి చర్మం అంబరంగా గలవాడు
 3. వస్త్రాలేమి లేని వాడు
 4. నారలో వస్త్రాలు ధరించిన వాడు

100. 'పల్లభలు' అనగా అర్థం ఏమిటి ?
 1. భర్తలు 2. భార్యలు
 3. వేశ్యలు 4. దేవతలు
101. నీటిలో కరిగే విటమిన్ ఏది
 1. విటమిన్ - ఎ 2. విటమిన్ - డి
 3. విటమిన్ - కె 4. ఆస్కార్బిక్ ఆమ్లం
102. "మినిమోటా" వ్యాధిని కలుగచేసే కాలుష్య కారకం
 1. ఓజోన్ 2. పాదరసం
 3. సల్ఫర్ 4. నైట్రోజన్
103. క్రింది గుహలలో ఏది మహారాష్ట్రలో లేదు?
 1. అజంతా గుహలు 2. ఎలిఫెంటా గుహలు
 3. బెలుం గుహలు 4. ఎల్లోరా గుహలు
104. అంతర్జాతీయ న్యాయస్థానంలో ఎంత మంది న్యాయమూర్తులు సభ్యులుగా ఉంటారు?
 1. ఎనిమిది 2. పదకొండు
 3. పదిహేను 4. పదిహేడు
105. జనసంఖ్య ప్రకారం దేశంలో అత్యధిక పేదరికం ఏ రాష్ట్రంలో ఉంది?
 1. బీహార్ 2. ఒరిస్సా
 3. ఉత్తరప్రదేశ్ 4. రాజస్థాన్
106. భారత రాజ్యాంగ పరిషత్ మొదటి సమావేశం ఎప్పుడు జరిగెను?
 1. 1948 జనవరి 26 2. 1947 ఆగస్టు 16
 3. 1946 డిసెంబర్ 9 4. 1947 నవంబరు 26
107. భారతదేశం స్వదేశీ పరిజ్ఞానంతో తయారు చేసిన సూపర్ కంప్యూటర్ పేరేమిటి?
 1. పరమ్ 2. నానో
 3. ఏక 4. లక్ష్మ్య
108. ప్రపంచములో అత్యంత పొడవైన నది
 1. వోల్గా 2. అమెజాన్
 3. గంగ 4. నైల్
109. వజ్రాలు ఎక్కువగా లభించే ప్రదేశం?
 1. కేరళ 2. కర్ణాటక
 3. మధ్యప్రదేశ్ 4. ఆంధ్రప్రదేశ్
110. ప్రపంచపు చక్కెర గిన్నె (సుగర్ బౌల్)గా ప్రసిద్ధి చెందిన దేశం?
 1. భారత్ 2. క్యూబా
 3. రష్యా 4. అమెరికా
111. క్రింది వాటిలో సొంత హైకోర్టు కలిగి ఉన్న కేంద్రపాలిత ప్రాంతం ఏది?
 1. చండీగఢ్ 2. పుదుచ్చేరి
 3. ఢిల్లీ 4. పైవన్నీ
112. ఇండియాలో అత్యల్ప జనాభా గల జిల్లా
 1. తూర్పు గోదావరి 2. నెల్లూరు
 3. ఆదిలాబాద్ 4. యానాం
113. మార్క్స్ గ్యాస్ నందు ఉండునది?
 1. మీథేన్ 2. ఇథిలీన్
 3. బ్యూటేన్ 4. ప్రోపేన్
114. భారతదేశంలో ఉష్ణ మండల సతత పరితారణ్యాలు ఎక్కడ ఉన్నాయి?
 1. కేరళ 2. ఆంధ్రప్రదేశ్
 3. మధ్యప్రదేశ్ 4. ఒరిస్సా
115. కింది పరిశ్రమలలో, రాంచీకి సంబంధం ఉన్న పరిశ్రమ ఏది?
 1. రేయాస్ సిల్క్ 2. రాగి
 3. హాజరీ 4. భారీ యంత్రాల తయారీ
116. భారతదేశంలోనే అతిపెద్ద సరస్సు ఏ రాష్ట్రంలో ఉంది?
 1. ఆంధ్రప్రదేశ్ 2. అస్సామ్
 3. మధ్యప్రదేశ్ 4. ఒరిస్సా
117. అంత్యోదయ కార్యక్రమము మొట్టమొదటిసారి ఈక్రింది రాష్ట్ర ములో ప్రారంభించబడినది.
 1. తమిళనాడు 2. ఒరిస్సా
 3. పశ్చిమ బెంగాల్ 4. రాజస్థాన్
118. మొట్టమొదటి తెలుగు వార్తాపత్రిక?
 1. ఈనాడు 2. కృష్ణాపత్రిక
 3. ఆంధ్రపత్రిక 4. హిందూ
119. భూమికి దగ్గరగా ఉన్న వాతావరణ పొర
 1. ఎకోస్పియర్ 2. అయనోస్పియర్
 3. ట్రోపోస్పియర్ 4. స్ట్రాటోస్పియర్
120. అట్లాస్ పర్వతాలు ఎక్కడ ఉన్నాయి?
 1. వాయివ్య ఆఫ్రికా 2. నైరుతి ఆఫ్రికా
 3. ఆస్ట్రేలియా 4. యూరప్

జవాబులు

1. 1	2. 3	3. 2	4. 1	5. 2	6. 3	7. 1	8. 2	9. 3	10. 1
11. 4	12. 1	13. 1	14. 4	15. 4	16. 3	17. 4	18. 2	19. 1	20. 1
21. 2	22. 4	23. 2	24. 2	25. 2	26. 4	27. 4	28. 4	29. 2	30. 1
31. 1	32. 1	33. 2	34. 3	35. 3	36. 2	37. 3	38. 3	39. 1	40. 3
41. 4	42. 1	43. 1	44. 1	45. 3	46. 1	47. 4	48. 2	49. 2	50. 1
51. 4	52. 2	53. 2	54. 3	55. 1	56. 3	57. 4	58. 4	59. 3	60. 2
61. 1	62. 1	63. 1	64. 4	65. 3	66. 1	67. 4	68. 3	69. 3	70. 4
71. 4	72. 3	73. 1	74. 3	75. 1	76. 2	77. 4	78. 3	79. 1	80. 2
81. 2	82. 2	83. 4	84. 3	85. 1	86. 3	87. 1	88. 2	89. 4	90. 1
91. 3	92. 3	93. 2	94. 4	95. 1	96. 4	97. 3	98. 4	99. 1	100. 2
101. 4	102. 2	103. 3	104. 3	105. 3	106. 3	107. 1	108. 4	109. 3	110. 2
111. 3	112. 4	113. 1	114. 1	115. 4	116. 4	117. 4	118. 2	119. 3	120. 1

FOR

**TIRUMALA TIRUPATI
DEVASTHANAMS**

**JUNIOR ASSISTANSTS,
UD STENO, LD STENO,
LD TYPIST, ASST/SHROFF
EXAM MODEL PAPERS**

SEE

JAYAM SERIES BOOKS

JAYAM SERIES

16-2-875/1, Saidabad,

Hyderabad - 500 059

Cell: 9849200706, 9293316176, 9290882406